

**B.Ed. Entrance Test-2019**

**Important:** Please consult your Admit Card / Roll No. slip before filling your Roll Number on the Test Booklet and Answer Sheet.

Roll No.

In Figure

In Words

--	--	--	--	--	--

--	--	--	--	--	--

O.M.R. Answer Sheet Serial No.

Signature of Candidate : \_\_\_\_\_

Signature of Invigilator : \_\_\_\_\_

Time : 2½ Hours

Number of Questions : 150

Max. Marks : 150

**DO NOT OPEN THE SEAL ON THE BOOKLET UNTIL ASKED TO DO SO.****INSTRUCTIONS :**

- Write your Roll No. on the Question Booklet and also on the OMR Answer Sheet in the space provided and nowhere else.
- Enter the Question Booklet Serial No. on the OMR Answer Sheet. Darken the corresponding bubbles with **Black Ball Point/Black Gel Pen**.
- Do not make any identification mark on the Answer Sheet or Question Booklet.
- For Language paper of Hindi (Q. Nos. 121–150) and Punjabi (Q. Nos. 151–180), Candidates are to attempt on one language. Candidates who have studied Punjabi in 10<sup>th</sup> class have to attempt questions of Punjabi language.
- Each question has four alternative answers (A, B, C, D) of which only one is correct. For each question, darken only one bubble (A or B or C or D), whichever you think is the correct answer, on the Answer Sheet with **Black Ball Point / Black Gel Pen**. Each question carries 1 mark. There shall be no negative marking for wrong answers.
- If you do not want to answer a question, leave all the bubbles corresponding to that question blank in the Answer Sheet. No marks will be deducted in such cases.
- Darken the bubbles in the OMR Answer Sheet according to the Serial No. of the questions given in the Question Booklet.
- If you want to change an already marked answer, erase the shade in the darkened bubble completely.
- For rough work only the blank sheet at the end of the Question Booklet be used.
- The Answer Sheet is designed for computer evaluation. Therefore, if you do not follow the instructions given on the Answer Sheet, it may make evaluation by the computer difficult. **Any resultant loss to the candidate on the above account, i.e. not following the instructions completely, shall be of the candidate only.**
- After the test, hand over the Question Booklet and the Answer Sheet to the Assistant Superintendent on duty.
- Carbon copy of OMR is to be removed carefully by the candidates for the personal record.
- A candidate who creates disturbance of any kind or changes his/her seat or is found in possession of any paper possibly of any assistance or found giving or receiving assistance or found using any other unfair means during the examination will be expelled from the examination by the Centre Superintendent/Observer whose decision shall be final.
- Communication equipment such as mobile phones, pager, wireless set, scanner, camera or any electronic/digital gadget etc. is not permitted inside the examination hall. Use of calculators is not allowed.
- The candidates will not be allowed to leave the Examination Hall/Room before the expiry of the allotted time.
- Defiance of any prohibited instruction will lead to unfair means case (UMC) and Disqualification of Candidature.
- Question Nos. 1 to 120 are common for all.

**SEAL**

1. Which number will come next in the given series ?

17, 13, 11, 7, 5, 1, ?

- (A) 1                      (B) 2                      (C) 0                      (D) -1

2. Find the missing number in the following series :

240, \_\_\_\_\_, 120, 40, 10, 2

- (A) 480                      (B) 240                      (C) 220                      (D) 126

3. Find the wrong number in the following series :

7, 9, 17, 42, 91, 172, 297

- (A) 9                      (B) 91                      (C) 42                      (D) 172

4. Find the word which is least like the other words :

(i) Zebra

(ii) Lion

(iii) Tiger

(iv) Horse

(v) Giraffe

- (A) (i)                      (B) (iii)                      (C) (iv)                      (D) (v)

5. Choose the pair, which is differently related as the other four pairs are related :

(i) Gold : Ornaments

(ii) Cloth : Garments

(iii) Wood : Furniture

(iv) Leather : Footwear

(v) Earthen Pots : Clay

- (A) (v)                      (B) (iii)                      (C) (ii)                      (D) (i)

6. Find the graph of letters which is different from other three :

(A) USNIKB

(B) VTOJE

(C) UPKEA

(D) UMIDB

7. Replace the question mark (?) on the basis of relation between first two :

Ornithologist : Bird :: Anthropologist : ?

(A) Animals

(B) Insects

(C) Minerals

(D) Mankind

8. Find the pair of words among four options, which has the same relation as the given pair has :

SAPLING : TREE :: \_\_\_\_\_ : \_\_\_\_\_

(A) Horse : Mare

(B) Student : Teacher

(C) Bud : Flower

(D) Tree : Furniture

9. Choose the suitable pair of words to fill the blanks :

\_\_\_\_\_ is to Uncle as Mother is to \_\_\_\_\_.

- (A) Brother, Brought up (B) Father, Aunt (C) Cousin, Beautiful (D) Aunt, Father

10. Find the word having most opposite meaning of WILLING:

- (A) Oblige (B) Reluctant (C) Distracted (D) Determined

11. Find the word having most similar meaning of GETAWAY:

- (A) Escape (B) Holiday (C) Freedom (D) Fantasy

12. If SEND-MONEY is coded as QCLB-KMLCW, what will be first and last letters of the word in the same code MOST-SECRET?

- (A) R, K (B) K, R (C) O, V (D) V, U

13. IF:

(i) 'Quo Cui Heer' means 'Boy is good'

(ii) 'Lai Quo Mea' means 'Meena is fair'

(iii) 'Ruo Lev Mea' means 'All are fair'

(iv) 'Si Hai Cui' means 'Dog was good'

then which of the following words stands for 'Boy'?

- (A) Quo (B) Cui (C) Heer (D) Lai

14. If 'UNDERSTAND' is coded as 1234567823, how will 'START' be coded?

- (A) 56781 (B) 67857 (C) 67247 (D) 65325

#### Information for Q. Nos. 15—16

Four boys Raj, Prem, Ved and Ashok are friendly with four girls Sushma, Kusum, Vimla and Poonam, not necessarily in the same order. Sushma and Vimla are friends, Ved's girlfriend does not like Sushma and Vimla, Kusum does not care for Ved. Prem's girlfriend is friendly with Sushma. Sushma does not like Raj.

15. Who is Raj's girlfriend?

- (A) Sushma (B) Kusum (C) Vimla (D) Poonam

16. Who does not like Sushma and Vimla?

- (A) Poonam (B) Raj (C) Kusum (D) Ashok

**Information for Q. Nos. 17—18**

- (i) A, B, C, D, E, F and G are sitting around a circle facing the centre
- (ii) G is second to the left of C, who is immediate left of F
- (iii) A is third to the left of E
- (iv) B is between D and E

17. Which of the following is false ?

- (A) A is 4<sup>th</sup> to the right of E
- (B) G is to the immediate right of D
- (C) F is 3<sup>rd</sup> to the right of D
- (D) B is to the immediate left of D

18. What is the position of F ?

- (A) 4<sup>th</sup> to right of D
- (B) To the immediate left of C
- (C) Between A and E
- (D) To the immediate right of A

19. On the basis of statement, four conclusions are derived. Find the correct one :

Statement : 'Many creative persons become artists'

Conclusions :

- (A) A creative person will certainly become an artist
- (B) It is not possible to become an artist without creativity
- (C) A high level of creativity is needed to become an artist
- (D) Some artists are creative person

20. Out of three assumptions I, II and III after the statement, choose the implicit assumption :

"We do not want you to see our product in newspaper, visit our shop to get a full view" — An advertisement.

Assumptions: I. People decide to purchase a product after seeing its advertisement

II. Uncommon appeal may attract the customers

III. People may come to shop to see the product

- (A) None is implicit
- (B) Only I and II are implicit
- (C) Only II and III are implicit
- (D) All are implicit

21. Four arguments follow the statement. Find the most strong argument(s) :

Statement : "Should there be compulsory military training for each college student in India ?"

Arguments : I. Yes, it is only way to build a powerful nation

II. No, compulsion always leads to repulsion


III. Yes, it is only way to impart discipline in young generation

IV. No, it is against basic democratic right

- (A) Only I and III are strong
- (B) Only II and IV are strong
- (C) Only I and IV are strong
- (D) All are strong

**Information for Q. Nos. 22—24**

The following graph depicts the number of people having income over Rs. 20000/- per month in a locality (in lakh) for six years 2011-2016 :



22. What is the average number of people in lakhs having income more than Rs. 20000/- per month for the given year ?  
 (A) 25 (B) 30 (C) 33 (D) 36
23. What is the difference in number of people having salary more than Rs. 20000/- in first half of the given years as compared to the second half of the period ?  
 (A) 75 Lakh (B) - 70 Lakh (C) 50 Lakh (D) 55 Lakh
24. In which year the number of people had the highest jump in the category of people drawing salary above Rs. 20000/- ?  
 (A) Between 2014-15 (B) Between 2011-12 (C) Between 2012-13 (D) Between 2013-14
25. Choose the correct observation among the four observations given on the statement below :  
 Statement : "Beware of postponing tasks : prompt decisions must be followed by prompt action."  
 Observations :  
 (A) Statement is a fact (B) Statement is an advice  
 (C) Statement is an opinion (D) Statement is prejudice
26. 'X' is a dry state as drinking in that state is prohibited by law'.  
 Which of the following statements, if true weakens the above statement ?  
 (A) State 'X' consumes more liquor than most other states  
 (B) State 'X' has the highest crime rate  
 (C) In the state there is illegal trade of liquor on large scale  
 (D) Serving liquor in 'X' is the most popular fashion

**Information for Q. Nos. 27-30**

All six members of a family A, B, C, D, E and F are travelling together. B is son of C but C is not mother of B. A and C are a married couple. E is brother of C. D is daughter of A. F is the brother of B.

27. How many male members are there in the family ?  
(A) 1 (B) 3 (C) 2 (D) 4
28. Who is mother of B ?  
(A) D (B) A (C) C (D) E
29. How many children does A have ?  
(A) 1 (B) 2 (C) 3 (D) 4
30. How is E related to D ?  
(A) Father (B) Brother  
(C) Uncle (D) Cannot be determined
31. The Chairman of Committee for Draft National Education Policy-2019 is \_\_\_\_\_.  
(A) Dr. K. Kasturirangan (B) Sh. Prakash Javadekar  
(C) Prof. Manjul Bhargava (D) Prof. M.K. Sridhar
32. The Magna Carta of English Education in India is \_\_\_\_\_.  
(A) Charter Act (1813) (B) Macaulay's Minute for Education in India (1835)  
(C) Wood's Despatch on Education (1854) (D) Report of the Sargent Commission (1944)
33. \_\_\_\_\_ is the degree to which a test measures what it is supposed to measure ?  
(A) Reliability (B) Validity (C) Usability (D) Objectivity
34. Which organ of the body produces the fluid known as bile ?  
(A) Liver (B) Pancreas (C) Gall bladder (D) Kidney
35. Decibel is the unit for measuring \_\_\_\_\_.  
(A) speed of light (B) intensity of sound  
(C) intensity of heat (D) radio wave frequency
36. Chlorophyll is a naturally occurring chelate compound in which central metal is \_\_\_\_\_.  
(A) Copper (B) Iron (C) Magnesium (D) Calcium
37. Who is empowered to declare National Emergency ?  
(A) Prime Minister of India (B) President of India  
(C) Governors of State (D) Parliament
38. How many Schedules are contained in the Constitution of India ?  
(A) 12 schedules (B) 20 schedules  
(C) 10 schedules (D) 25 schedules

39. Kautilya was the Prime Minister of which ruler ?  
 (A) Chandra Gupta (B) Chandra Gupta II  
 (C) Chandragupta Maurya (D) Ashoka
40. Which book did Mohandas Gandhi write ?  
 (A) India-The National  (B) The Story of My Experiments with Truth  
 (C) Two States (D) The Good Earth
41. Wings of Fire is an autobiography of :  
 (A) Rabindranath Tagore  (B) A.P.J. Abdul Kalam  
 (C) Pranab Mukherjee (D) Shankar Dyal Sharma
42. Who was the poet of Kadambari ?  
 (A) Tulsidas (B) Bhavabhuti  
 (C) Rabindranath Tagore (D) Ishwar Chandra Vidyasagar
43. Who is the writer of the book 'Train to Pakistan' ?  
 (A) Amrita Pritam  (B) Khushwant Singh  
 (C) R.K. Narayan (D) Mulk Raj Anand
44. Who wrote Dilli ki Galiyan ?  
 (A) Puran Singh (B) Nanak Singh (C) Dalip Kaur Tiwana  (D) Amrita Pritam
45. Whose composition is "Pavitra Paapi" ?  
 (A) Prof. Puran Singh (B) Prof. Mohan Singh  
 (C) Nanak Singh (D) Gurdial Singh Preetlari
46. Which of the following countries won Football World Cup maximum times ?  
 (A) Germany (B) Italy (C) Argentina  (D) Brazil
47. Who among the following won a bronze medal for India in Wrestling (Freestyle) at the 2016 Rio Olympics ?  
 (A) Sandeep Tomar  (B) Sakshi Malik  
 (C) Vinesh Phogat (D) Narsingh Yadav
48. \_\_\_\_\_ was the first Indian cricketer who had taken hat-trick wicket in one day international.  
 (A) Ravi Shastri (B) Kapil Dev  (C) Chetan Sharma (D) Maninder Singh
49. Garba is the popular dance form of \_\_\_\_\_.  
 (A) Haryana (B) Himachal Pradesh  
 (C) Maharashtra  (D) Gujarat
50. The National School of Drama is situated in \_\_\_\_\_.  
 (A) Mumbai  (B) New Delhi (C) Kolkata (D) Chennai
51. Ustad Bismillah Khan was credited with popularizing the \_\_\_\_\_.  
 (A) Shehnai (B) Sitar (C) Sarod (D) Flute
52. Indian Government has approved the creation of which agency for educational testing under the Indian Societies Registration Act, 1860 ?  
 (A) National Educational Agency  (B) National Testing Agency  
 (C) National Education Testing Agency (D) National Higher Education Testing Agency

53. Which of the following scheme of Modern Education is associated with Zakir Hussain Committee ?  
 (A) National Education Commission (1964-1966)  
 (B) National Policy on Education (1986)  
 (C) Wardha Scheme of Basic Education (1937)  
 (D) Indian Education Commission (1882)
54. National Achievement Survey (2017) was conducted on students of \_\_\_\_\_  
 (A) Classes I-V (B) Classes VI-VIII  
 (C) Classes II, VI & VIII  (D) Classes III, V & VIII
55. Who is the Union Minister of Human Resource Development in Government of India ?  
 (A) Dr. Subrahmanyam Jaishankar (B) Smt. Smriti Zubin Irani  
 (C) Dr. Ramesh Pokhriyal 'Nishank' (D) Shri Prakash Javadekar
56. Who is the current Indian Chief of Army Staff ?  
 (A) General Dalbir Singh  (B) General Bipin Rawat  
 (C) General Bikram Singh (D) General Vijay Kumar Singh
57. Who is Captain of Afghanistan Team in ICC World Cup-2019 ?  
 (A) Gulbadin Naib (B) Mohammad Shahzad  
 (C) Asghar Afghan (D) Rashid Khan
58. Which of the following initiatives is an effort of Income Tax Department of India to directly communicate with the tax payers ?  
 (A) SWAYAM (B) SWAYAM PRABHA  
 (C) Aaykar Setu (D) SUGAM VARTA
59. Find out the odd one :  
 (A) Internet (B) Linux (C) Unix (D) Windows
60. Which of the following parties formed the 15<sup>th</sup> National Assembly in Pakistan ?  
 (A) National People Party (B) Pakistan Muslim League-Nawaz  
 (C) Pakistan Tehreek-e-Insaf (D) Pakistan Peoples Party
61. Teaching would be more effective if the teacher :  
 (A) Makes his intent purposeful (B) Is master of the subject  
 (C) Uses various instructional aids (D) Declares his objectives in the beginning
62. A teacher who is not able to draw the attention of his students should :  
 (A) Evaluate his teaching method and improve it (B) Resign from the post  
 (C) Find fault in his pupils (D) Start dictating
63. Distance Education means :  
 (A) Education provided at distance  
 (B) Education provided for those who cannot go to school  
 (C) Education at the door step of the learner  
 (D) Education for serving people



64. School level ETV programmes are produced by :  
 (A) CIET                      (B) EICT                      (C) CITE                      (D) ETCE
65. Which of the following is Doordarshan's Educational Television Channel ?  
 (A) Gurukul                      (B) Gyan Bharati                       (C) Gyan Darshan                      (D) Vidya
66. Which of the following is an audio-visual aid ?  
 (A) Radio                      (B) Tape-recorder                       (C) Television                      (D) Projector
67. Indian Education Commission 1966 stresses :  
 (A) Value Orientation                      (B) Religious Orientation  
 (C) Inculcation of democratic value                      (D) None of the above
68. India is a :  
 (A) Sovereign Democratic Socialist Republic                      (B) Sovereign Socialist Secular Republic  
 (C) Sovereign Democratic Republic                       (D) Sovereign Socialist Secular Democratic Republic
69. 'Education' as per the Constitution of India finds the entry in :  
 (A) Concurrent list                      (B) State list                      (C) Centre list                      (D) None of these
70. Who introduced for the first time free and compulsory Primary Education ?  
 (A) Gopal Krishan Gokhale                      (B) M.K. Gandhi  
 (C) N.P.E. 1968                      (D) Primary Education Commission
71. Which was the first university to be opened in Britishers' time ?  
 (A) Bombay University                      (B) Aligarh University  
 (C) Calcutta University                      (D) Hyderabad University
72. Panjab University was shifted to Chandigarh in :  
 (A) 1942                      (B) 1950                       (C) 1956                      (D) 1962
73. Who said, "A lamp can never light another lamp unless it continues to burn its flame" ?  
 (A) M.K. Gandhi                       (B) Rabindranath Tagore  
 (C) Rousseau                      (D) Plato
74. A creative teacher is one who can :  
 (A) Write poems and stories                      (B) Draw pictures  
 (C) Narrate stories                       (D) Develop thinking ability of students
75. If some of the students in the class are found to be using intoxicants, the teacher should :  
 (A) Inform police                      (B) Inform the headmaster  
 (C) Advise them properly                      (D) Punish them
76. Which method is suitable for solving school problem faced by the teacher ?  
 (A) Action Research                      (B) Survey Method                      (C) Historical Method                      (D) Descriptive Method
77. To identify non-social children in your class, you as a teacher would apply :  
 (A) Aptitude test                       (B) Socio-metric test                      (C) P.Q. test                      (D) Achievement test
78. When having a heterogeneous group to teach, teacher should follow :  
 (A) Lecture Method                      (B) Demonstration Method  
 (C) Project Method                      (D) Lecture cum Demonstration Method

79. Teachers' relationship with students should be :  
 (A) Formal (B) Informal  (C) Affectionate (D) Professional
80. Success of a profession depends on :  
 (A) Policy to please individuals (B) Maintaining relationship with people  
 (C) Maintaining quality of work (D) Loyalty to the superiors
81. Majority of the teachers in your school want you to be the staff secretary. You are not very confident. How will you react to the proposal ?  
 (A) Tell them curtly, that you wouldn't take it up  
 (B) Tell them that you are not the apt person  
 (C) Accept the challenge seeking their co-operation in all matters  
 (D) Suggest the name of somebody instead
82. By which of the following methods the true evaluation of the students is possible ?  
 (A) Formative evaluation  (B) Continuous evaluation  
 (C) Evaluation twice in a year (D) Evaluation at the end of the course
83. Internal assessment is good because :  
 (A) Students fear the teacher  
 (B) It gives weightage to classroom attention  
 (C) Only the teacher knows the progress and performance of the students  
 (D) It will improve the aggregate score
84. What are the characteristics of Continuous and Comprehensive Evaluation ?  
 (A) It replaces marks with grades (B) It helps in reducing examination phobia  
 (C) It evaluate every aspect of the student  (D) All of the above
85. A Library helps the student to develop :  
 (A) Love for books  (B) Comprehension ability  
 (C) Personal relationships (D) Friendly circle
86. For teachers the books should be issued for :  
 (A) One week  (B) One month (C) Six months (D) One year
87. What do you understand by reference book ?  
 (A) Such a book cannot be issued (B) Such a book cannot be taken out of library  
 (C) Such a book can be read only in the library  (D) All of the above
88. NSS aims at :  
 (A) Helping students to get admission  (B) Developing dignity of labour  
 (C) Keeping students busy (D) Developing society
89. Family is a means of :  
 (A) Informal education (B) Formal education  
 (C) Non-formal education (D) Distance education
90. The word school has originated from :  
 (A) Greek (B) French (C) Latin (D) English

ENGLISH LANGUAGE (Q. No. 91 — 120)

Choose the option which is closer in meaning to the given words (Q. 91—95)

91. Acumen :

- (A) Gentleness                      (B) Ineptness                       (C) Sharpness                      (D) Inability

92. Contentious :

- (A) Agreeable                       (B) Debatable                      (C) Loving                      (D) Irrevocable

93. Demagogue :

- (A) Peacemaker                      (B) Mediator                      (C) Referee                       (D) Soapbox Orator

94. Biodegradable :

- (A) Unecological                      (B) Unsustainable                      (C) Imperishable                       (D) Decomposable

95. Embezzlement :

- (A) Scrupulous                      (B) Conscientious                      (C) Fairness                       (D) Misappropriation

Complete the following Proverbs (Q. 96—100)

96. Absence makes the heart grow :

- (A) wiser                      (B) warmer                       (C) fonder                      (D) restless

97. The cat is out of the ...

- (A) room                       (B) bag                      (C) cradle                      (D) hat

98. An idle brain is the devil's ...

- (A) home                      (B) favourite spot                       (C) workshop                      (D) factory

99. Do not bite off more than ...

- (A) you can digest                      (B) you can swallow                      (C) you can enjoy                       (D) you can chew

100. Fools rush in where angels fear :

- (A) to step                      (B) to walk                       (C) to tread                      (D) to go

Give one word for the following expressions (Q. 101—103)

101. Study of election trends is called :

- (A) Philology                      (B) Theology                      (C) Entomology                       (D) Psephology

102. One who has refined tastes in food and wine :

- (A) Glutton                      (B) Gorgier                      (C) Guzzler                       (D) Gourmet

103. The school or college one attends is called :

- (A) Institute                      (B) Solarium                      (C) Planetarium                       (D) Alma Mater

**Choose the correct preposition to fill in the blanks (Q. 104—107)**

104. John travelled \_\_\_\_\_ America on his motorcycle.  
(A) through (B) in  (C) across (D) into
105. We arrived \_\_\_\_\_ our destination.  
(A) on (B) in (C) over  (D) at
106. The train passes \_\_\_\_\_ the tunnel.  
(A) in (B) into  (C) through (D) under
107. The lawyer said he will meet \_\_\_\_\_ your representatives.  
(A) all (B) of  (C) with (D) off

**Choose the correct sentence (Q. 108—110)**

108. (A) What is the difference among these cars?  
(B) What are the differences among whose cars?  
 (C) What is the difference between these cars?
109. (A) The doctor suggested the patient to take a vacation.  
(B) The doctor suggested that the patient to take a vacation.  
 (C) The doctor suggested that the patient should take a vacation.
110. (A) No matter what that I do, I cannot make her happy.  
(B) No matter that I do, I cannot make her happy.  
 (C) No matter what I do, I cannot make her happy.

**Read the paragraph and choose the correct option to answer the questions (111—115) on the basis of your reading :**

The increasing pace of contemporary life in the cities and the nuclear family are compelling men to expect more from their wives, if not actually in work, at least in companionship and a deeper understanding of their problems. Education and leisure, fewer children, modern amenities which lighten domestic duties are giving women the urge and time to look beyond the kitchen and home. Hence the time is propitious for establishing a new kind of harmony which gives the greatest opportunities for working as partners and for finding fulfilment. Through the ages the Indian woman has consciously or unconsciously helped to preserve, to reconcile and to carry forward our traditions and culture. Today, every home is buffeted by winds of change from all directions. How can we progress without being blown from our moorings? Our future depends greatly on whether the Indian woman has the wisdom and discrimination to distinguish between what to respect and what to reject, whether she is able to achieve a harmonious synthesis between the best of our tradition and the most desirable of the modern.

11. Men are expecting more from their wives because of :  
(A) Fast life of cities (B) Break up of the joint family  
 (C) Fast city life and nuclear families (D) More problems of modern lives

112. The traditional role of the Indian woman has been to :

- (A) to bring up children  
(B) preserve, reconcile and carry forward our culture  
(C) to oppose traditions  
(D) to reconcile with everything

113. The word 'moorings' is closest in meaning to :

- (A) modernity  
(B) traditions  
(C) traditions and old beliefs  
(D) customs

114. India's future depends on :

- (A) right judgement by women to respect or reject traditions  
(B) choose between traditions and modern ideas  
(C) women's judgement to achieve a synthesis of tradition and modern ideas  
(D) none of the above

115. The word 'buffeted' is closest in meaning to :

- (A) caught  
(B) lashed  
(C) affected strongly  
(D) unaffected

Choose the correctly punctuated sentence (Q. 116—118) from the given options :

116. (A) He said firmly please wait till I finish!

(B) He said firmly, "Please wait till I finish".

(C) He said, firmly, please wait, till I finish.

117. (A) We are celebrating parents day in the school today.

(B) We are celebrating parent day's in the school today.

(C) We are celebrating parents' day in the school today.

118. (A) Having finally arrived in the city we went shopping.

(B) Having finally arrived, in the city, we went shopping.

(C) Having finally arrived in the city, we went shopping.

Fill in the correct option in the sentences given below (Q. 119—120)

119. Last week we \_\_\_\_\_ a discussion on the delay in submitting our reports.

- (A) has  
(B) have  
(C) had

120. Jenny \_\_\_\_\_ interrupting me so often that I feel annoyed.

- (A) keep  
(B) kept  
(C) keeps

121. निम्नलिखित में से कौन-सा व्यंजन 'ऊष्म व्यंजन' है ?  
 (A) ट (B) श (C) ख (D) फ
122. निम्नलिखित शब्दों में से किस शब्द की वर्तनी (Spellings) सही है ?  
 (A) कन्यान (B) टण्कण (C) दद्ल (D) चञ्चल
123. निम्नलिखित शब्दों में से किस शब्द में 'अन्' उपसर्ग का प्रयोग नहीं हुआ है ?  
 (A) अनाचार (B) अनादि (C) अनाथ (D) अनुपस्थित
124. निम्नलिखित शब्दों में से कौन-सा शब्द 'कपड़ा' शब्द का पर्यायवाची है ?  
 (A) पट (B) पग (C) पथ (D) पय
125. निम्नलिखित शब्दों में से कौन-सा शब्द 'उपकार' शब्द का विलोम है ?  
 (A) प्रतिकार (B) स्वीकार (C) अपकार (D) उदार
126. 'जिसे भुलाया न जा सके' \_\_\_\_\_ इस वाक्यांश के लिए किस 'एक शब्द' का प्रयोग किया जाता है ?  
 (A) अस्मरणीय (B) अविस्मरणीय (C) विस्मरणीय (D) संग्रहणीय
127. निम्नलिखित में से कौन-सा 'अविकारी' शब्द है ?  
 (A) सर्वनाम (B) क्रिया (C) क्रियाविशेषण (D) विशेषण
128. 'उस बालक को देखो' \_\_\_\_\_ इस वाक्य में प्रयुक्त 'उस' शब्द क्या है ?  
 (A) सर्वनाम (B) संबंधबोधक (C) क्रिया (D) सार्वनामिक विशेषण
129. 'पूजना' शब्द से बनने वाली भाववाचक संज्ञा क्या है ?  
 (A) पूजित (B) पूजनीय (C) पूजा (D) पूज्य
130. 'मैंने मयंक को पुस्तक दी' \_\_\_\_\_ इस वाक्य के रेखांकित अंश में किस कारक का प्रयोग किया गया है ?  
 (A) कर्म (B) अपादान (C) संप्रदान (D) अधिकरण
131. निम्नलिखित वाक्यों में से किस वाक्य में निजवाचक सर्वनाम का प्रयोग किया गया है ?  
 (A) आज तुमने क्या खाया। (B) जो करेगा, सो भरेगा।  
 (C) वह स्वतः ही जान जाएगा। (D) मैं पढ़ रही हूँ।
132. 'माता ने राधा को पुस्तक दी' \_\_\_\_\_ इस वाक्य में क्रिया के किस भेद का प्रयोग किया गया है ?  
 (A) अकर्मक क्रिया (B) एककर्मक क्रिया (C) प्रेरणार्थक क्रिया (D) द्विकर्मक क्रिया
133. निम्नलिखित में से कौन-सा शब्द 'निपात' है ?  
 (A) ही (B) है (C) हे (D) हो
134. 'बहादुरी से लड़ने वाला सिपाही अंत में पीत गया।' \_\_\_\_\_ इस वाक्य के रेखांकित अंश में किस पदबंध का प्रयोग किया गया है ?  
 (A) संज्ञा पदबंध (B) क्रिया पदबंध (C) विशेषण पदबंध (D) सर्वनाम पदबंध
135. 'अध्यापिका कक्षा में गई तो वहाँ सभी विद्यार्थियों को पुस्तक पढ़ते देला' \_\_\_\_\_ इस वाक्य में रेखांकित शब्द क्या है ?  
 (A) स्थानवाचक क्रियाविशेषण (B) व्यधिकरण समुच्चयबोधक (C) अकर्मक क्रिया (D) गुणवाचक विशेषण
136. मिश्र वाक्य में आश्रित उपवाक्य मुख्यतः कितने प्रकार के होते हैं ?  
 (A) एक (B) दो (C) तीन (D) चार

137. 'निः+रोग' की संधि क्या होगी ?

- (A) निरोग (B) नीरोग (C) निःरोग (D) निश्रोग

138. निम्नलिखित में से कौन-सा 'अव्ययीभाव समास' का उदाहरण है ?

- (A) राजकुमारी (B) यथाशक्ति (C) दोपहर (D) नीलकमल

139. 'तुच्छ व्यक्ति के साथ मित्रता नहीं निभ सकती' \_\_\_\_\_ इस अर्थ में किस मुहावरे का प्रयोग किया जाता है ?

- (A) अधजल गगरी छलकत जाए (B) उलटा चोर कोतवाल को डोंटे  
(C) एक तो करेला दूसरा नीम चढ़ा (D) ओछे की प्रीत, बालू की भीत

140. रिक्त स्थान भरिए - 'घर का भेदी \_\_\_\_\_ जाए'।

- (A) छत (B) बज (C) लंका (D) सब

141. कौन-सा वाक्य शुद्ध है ?

- (A) राम, सीता या राधा पढ़ रहे हैं। (B) राम, सीता या राधा पढ़ रही है।  
(C) राम, सीता या राधा पढ़ रही हैं। (D) राम, सीता या राधा पढ़ रहे हैं।

142. 'Black Board' का हिन्दी - अनुवाद है :

- (A) श्वेतपट्ट (B) श्यामपट्ट (C) नीलपट्ट (D) हरितपट्ट

143. 'Constitution' का हिन्दी - अनुवाद है :

- (A) संविधान (B) विधिविधान (C) कानून (D) विवरण पुस्तिका

144. 'तलवार की धार' मुहावरे का अर्थ है :

- (A) बहुत तेज धार (B) बहुत अधिक काम (C) पथरीला रास्ता (D) कठिन काम

145. इस वाक्य के अंत में किस विराम-चिह्न का प्रयोग उचित रहेगा - 'यह मेरी बात नहीं सुनता' :

- (A) । (B) ? (C) ! (D)

निम्नलिखित अनुच्छेद को ध्यान से पढ़िए और इसके आधार पर (प्रश्न संख्या 146 से 150) के उत्तर दीजिए।

विदेशों में भी हिंदी संपर्क भाषा के रूप में फल-फूल रही है। विश्व के 236 विश्वविद्यालयों में हिंदी की पढ़ाई विधिवत् हो रही है। बाजार की भाषा के रूप में भी हिंदी विकास कर रही है। यह सच है कि बाजार की स्वीकार्यता और राजनीतिक प्रोत्साहन भाषा के विकास को ताकत देते हैं। इसी के कारण भाषा रोजगार देने की क्षमता पाती है। रेडियो, टी.वी. और कम्प्यूटर पर हिंदी में कार्य करना अब सरल होता जा रहा है। कृतिदेव, मंगल, पूनिकोड आदि के प्रचलन से हिंदी में कार्य करना सुविधाजनक हो गया है। स्मार्ट फोन जैसे आधुनिक उपकरणों में इनबिल्ट हिंदी भाषा के फॉण्ट दिए जा रहे हैं। इन कारणों से इलेक्ट्रॉनिक माध्यमों पर हिंदी तेजी से लोकप्रिय हो रही है। टेलिविजन और सिनेमा गाँवों में भी तेजी से हिंदी भाषा की स्वीकार्यता बढ़ा रहे हैं। हॉलीवुड फिल्मों अब बड़ी मात्रा में हिंदी में डब होकर रिलीज हो रही हैं।

146. इलेक्ट्रॉनिक माध्यमों पर हिंदी तेजी से लोकप्रिय क्यों हो रही है ?

- (A) यह सरल भाषा है  
(B) यह संपर्क भाषा है  
(C) स्मार्ट फोन जैसे आधुनिक उपकरणों में इनबिल्ट हिंदी भाषा के फॉण्ट दिए जा रहे हैं।  
(D) यह संस्कृत से उपजी भाषा है।

147. ਵਿਸ਼ਵ ਦੇ ਕਿਸੇ-ਕਿਸੇ ਵਿਸ਼ਵਵਿਦਿਆਲਯੋਂ ਮੇਂ ਹਿੰਦੀ ਕੀ ਪੜ੍ਹਾਈ ਵਿਧਿਕਤੁ ਹੋ ਰਹੀ ਹੈ ?

(A) 236

(B) 263

(C) 233

(D) 326

148. ਗੋਵੇਂ ਮੇਂ ਹਿੰਦੀ ਕੀ ਸਵੀਕਾਰਯੋਗਤਾ ਕਿਸਕੇ ਕਾਰਣ ਬਢ ਰਹੀ ਹੈ ?

(A) ਹਿੰਦੀ ਫੌਠ ਕੇ ਕਾਰਣ

(B) ਵਿਦੇਸ਼ੀ ਪ੍ਰਭਾਵ ਕੇ ਕਾਰਣ

(C) ਟੈਲਿਵਿਜ਼ਨ ਓਰ ਸਿਨੇਮਾ ਕੇ ਕਾਰਣ

(D) ਸੰਪਰਕ ਖਾਧਾ ਹੋਣੇ ਕੇ ਕਾਰਣ

149. ਖਾਸਾ ਕੀ ਰੋਜਗਾਰ ਵੇਨੇ ਕੀ ਖਸਲਤ ਕਿਸਕੇ ਕਾਰਣ ਬਢੀ ਹੈ ?

(A) ਬਾਜ਼ਾਰ ਕੀ ਸਵੀਕਾਰਯੋਗਤਾ ਓਰ ਰਾਜਨੀਤਿਕ ਪ੍ਰੋਤਸਾਹਨ ਕੇ ਕਾਰਣ

(B) ਕ੍ਰਾਂਤਿਦੇਵ, ਮੰਗਲ, ਯੂਨਿਕੋਡ ਆਦਿ ਕੇ ਪ੍ਰਚਲਨ ਕੇ ਕਾਰਣ

(C) ਗੋਵੇਂ ਮੇਂ ਖਾਸਾ ਕੀ ਸਵੀਕਾਰਯੋਗਤਾ ਕੇ ਕਾਰਣ

(D) ਵਿਦੇਸ਼ੋਂ ਮੇਂ ਸੰਪਰਕ ਖਾਧਾ ਕੇ ਰੂਪ ਮੇਂ ਫਲਨੇ-ਫੂਲਨੇ ਕੇ ਕਾਰਣ

150. ਕੌਨ-ਸੀ ਸਿਲਮੇਂ ਅੱਠ ਬੜੀ ਸਾਤ੍ਰਾ ਮੇਂ ਹਿੰਦੀ ਮੇਂ ਡੱਬ ਹੋਕਰ ਰਿਲੀਜ਼ ਹੋ ਰਹੀ ਹੈ ?

(A) ਤਫ਼ਿਯਾ ਕੀ

(B) ਯਾਪਾਨ ਕੀ

(C) ਸੰਸਕ੍ਰਿਤ ਕੀ

(D) ਹੌਲੀਵੁਡ ਕੀ

### ਪੰਜਾਬੀ ਭਾਸ਼ਾ (ਪ੍ਰਸ਼ਨ ਸੰਖਿਆ 151 ਤੋਂ 180)

151. ਭਾਸ਼ਾ :

(A) ਮਨੁੱਖੀ ਵਿਕਾਸ ਦਾ ਹਿੱਸਾ ਹੈ।

(B) ਮਨੁੱਖੀ ਅਵਿਸ਼ਕਾਰ ਹੈ।

(C) ਸਮਾਜ ਵਿਗਿਆਨਕ ਦੇਣ ਹੈ।

(D) ਰੱਬੀ ਦਾਤ ਹੈ।

152. ਹੇਠ ਲਿਖਿਆਂ ਵਿੱਚੋਂ ਕਿਹੜਾ ਜੁੱਟ ਸਹੀ ਹੈ ?

(A) ਪੁਆਧੀ : ਨਵਾਂਸ਼ਹਿਰ, ਪਟਿਆਲਾ

(B) ਦੁਆਬੀ : ਹੁਸ਼ਿਆਰਪੁਰ, ਰੋਪੜ

(C) ਮਾਝੀ : ਅੰਮ੍ਰਿਤਸਰ, ਗੁਰਦਾਸਪੁਰ

(D) ਮਲਵਟੀ : ਜਲੰਧਰ, ਲੁਧਿਆਣਾ

153. ਸੰਯੁਕਤ ਵਾਕ ਹੁੰਦਾ ਹੈ :

(A) ਸਮਾਨ ਤੇ ਅਧੀਨ ਵਾਕਾਂ ਦਾ ਜੋੜ

(B) ਦੋ ਵਾਕਾਂ ਦਾ ਜੋੜ

(C) ਸਮਾਨ ਉਪਵਾਕਾਂ ਦਾ ਜੋੜ

(D) ਦੋ ਅਧੀਨ ਉਪਵਾਕਾਂ ਦਾ ਜੋੜ

154. ਗੁਰਮੁਖੀ ਲਿਪੀ ਵਿੱਚ ਕੁੱਲ ਕਿੰਨੇ ਅੱਖਰ ਹਨ ?

(A) 35

(B) 56

(C) 65

(D) 41

155. ਕਾਰਕੀ ਸਿਧਾਂਤ ਅਨੁਸਾਰ ਪੰਜਾਬੀ ਦਾ ਕਾਰਕੀ ਮੇਲ ਹੈ :

(A) ਪੜਨਾਵ ਤੇ ਨਾਵ

(B) ਕਰਤਾ ਤੇ ਕਰਮ

(C) ਪ੍ਰਧਾਨ ਕਰਮ ਤੇ ਕਰਤਾ

(D) ਨਾਵ ਤੇ ਕਿਰਿਆ

156. ਹੇਠ ਲਿਖਿਆਂ ਵਿੱਚੋਂ ਕਿਹੜੇ ਸ਼ਬਦ ਜੋੜ ਠੀਕ ਹਨ ?

(A) ਇਕਹਰਾ

(B) ਇਕੈਹਰਾ

(C) ਇਕਹਿਰਾ

(D) ਇਕਹੁਰਾ



157. 'ਈਦ ਪਿਛੋਂ ਤੰਬਾ ਫੁਕਤਾ' ਮੁਹਾਵਰੇ ਦਾ ਅਰਥ ਹੈ :
- (A) ਕੁਚਲੇ ਮੱਦਦ ਕਰਨੀ (B) ਸਮੇਂ ਸਿਰ ਮੱਦਦ ਕਰਨੀ (C) ਵਿਚਾਲੇ ਮੱਦਦ ਕਰਨੀ (D) ਪਹਿਲੇ ਮੱਦਦ ਕਰਨੀ
158. ਪੰਜਾਬੀ ਵਾਕ-ਬਣਤਰ ਵਿੱਚ ਮੁੱਢਲੇ ਰੂਪ ਵਿੱਚ ਕਿਹੜੇ ਤੱਤ ਕਾਰਜਸ਼ੀਲ ਹੁੰਦੇ ਹਨ ?
- (A) ਕਰਤਾ, ਕਰਮ, ਕਿਰਿਆ (B) ਨਾਂਵ, ਪੜਨਾਂਵ, ਵਿਸ਼ੇਸ਼ਣ (C) ਕਰਤਾ, ਕਾਰਕ, ਵਿਸ਼ੇਸ਼ਣ (D) ਕਰਮ, ਕਿਰਿਆ ਤੇ ਨਾਂਵ
159. ਪੰਜਾਬੀ ਦੀ 'ਕ' ਧੁਨੀ ਦਾ ਉਚਾਰਨ ਕਿਹੜਾ ਹੈ ?
- (A) ਤਾਲਵੀ (B) ਸੁਰਯੰਤਰੀ (C) ਕੰਠੀ (D) ਹੋਠੀ
160. ਜਿਹਨਾਂ ਸ਼ਬਦਾਂ ਦੇ ਰੂਪਾਂ ਵਿੱਚ ਪਰਿਵਰਤਨ ਆ ਸਕਦਾ ਹੋਵੇ, ਉਹਨਾਂ ਨੂੰ ਕਿਹਾ ਜਾਂਦਾ ਹੈ :
- (A) ਵਿਕਾਰੀ (B) ਅਵਿਕਾਰੀ (C) ਧਾਤੂ (D) ਮੂਲ
161. .... 'ਤੇ ਬੁੱਕਿਆ ਮੂੰਹ' ਤੇ ਪੈਂਦਾ ਹੈ :
- (A) ਚੰਨ (B) ਸੂਰਜ (C) ਮੰਗਲ (D) ਕੇਤੂ
162. ਜਿਹਨਾਂ ਸ਼ਬਦਾਂ ਤੋਂ ਕਿਸੇ ਕੰਮ ਦੇ ਹੋਣ ਜਾਂ ਵਾਪਰਨ ਦਾ ਪਤਾ ਲੱਗੇ, ਉਹਨਾਂ ਨੂੰ ਕਿਹਾ ਜਾਂਦਾ ਹੈ :
- (A) ਵਿਸ਼ੇਸ਼ਣ (B) ਕਿਰਿਆ (C) ਨਾਂਵ (D) ਕਿਰਿਆ ਵਿਸ਼ੇਸ਼ਣ
163. ਭਾਸ਼ਾ ਨੂੰ ਲਿਖਤ ਵਿੱਚ ਢਾਲਣ ਲਈ ਵਰਤੇ ਜਾਂਦੇ ਸ਼ਬਦਾਂ ਨੂੰ ਕਹਿੰਦੇ ਹਨ :
- (A) ਭਾਸ਼ਾ (B) ਉਪਭਾਸ਼ਾ (C) ਲਿਪੀ (D) ਵਿਅਕਤੀ ਭਾਸ਼ਾ
164. ਕਾਰਜ ਦੇ ਆਧਾਰ ਤੇ ਪੰਜਾਬੀ ਭਾਸ਼ਾ ਦੇ ਵਾਕਾਂ ਨੂੰ ਕਿੰਨੀਆਂ ਸ਼੍ਰੇਣੀਆਂ ਵਿੱਚ ਵੰਡਿਆ ਜਾ ਸਕਦਾ ਹੈ :
- (A) ਤਿੰਨ (B) ਪੰਜ (C) ਸੱਤ (D) ਅੱਠ
165. 'ਕੁੜੀ ਬਹੁਤ ਸੁਰੀਲਾ ਗਾਉਂਦੀ ਹੈ' ਵਾਕ ਵਿੱਚ ਸੁਰੀਲਾ ਕਿਸ ਸ਼ਬਦ ਸ਼੍ਰੇਣੀ ਵਿੱਚ ਆਉਂਦਾ ਹੈ ?
- (A) ਵਿਸ਼ੇਸ਼ਣ (B) ਕਾਰਕ (C) ਕਿਰਿਆ (D) ਕਿਰਿਆ ਵਿਸ਼ੇਸ਼ਣ
166. 'ਉਹ ਕੁੜੀ ਬਹੁਤ ਖੁਸ਼ ਹੈ ਕਿਉਂਕਿ ਉਹ ਪੰਜਾਬ ਵਿੱਚੋਂ ਛੁੱਟ ਆਈ ਹੈ' ਕਿਸ ਕਿਸਮ ਦਾ ਵਾਕ ਹੈ ?
- (A) ਸਾਧਾਰਨ ਵਾਕ (B) ਸੰਯੁਕਤ ਵਾਕ (C) ਮਿਸ਼ਰਤ ਵਾਕ (D) ਇਹਨਾਂ ਵਿੱਚੋਂ ਕੋਈ ਵੀ ਨਹੀਂ
167. 'ਭਾਵੇਂ ਉਹ ਗਰੀਬ ਹੈ ਫਿਰ ਵੀ ਸੰਤੁਸ਼ਟ ਹੈ' ਵਾਕ ਵਿੱਚ 'ਭਾਵੇਂ', 'ਫਿਰ ਵੀ' ਕੀ ਹੈ ?
- (A) ਵਿਸ਼ੇਸ਼ਣ (B) ਯੋਜਕ (C) ਕਿਰਿਆ (D) ਸੰਬੰਧਕ
168. 'ਪੰਜਾਬ ਭਵਨ' ਕਿਸ ਕਿਸਮ ਦਾ ਸਮਾਜੀ ਸ਼ਬਦ ਹੈ ?
- (A) ਨਾਂਵ + ਨਾਂਵ (B) ਕਿਰਿਆ + ਨਾਂਵ (C) ਵਿਸ਼ੇਸ਼ਣ + ਨਾਂਵ (D) ਵਿਸ਼ੇਸ਼ਣ + ਵਿਸ਼ੇਸ਼ਣ
169. 'ਆਹਾ! ਅਸੀਂ ਮੈਚ ਜਿੱਤ ਗਏ' ਕਿਸ ਵੰਨਗੀ ਦਾ ਵਾਕ ਹੈ ?
- (A) ਵਿਸਮਿਕ (B) ਪ੍ਰਸ਼ਨਵਾਚੀ (C) ਪੂਰਨ ਵਾਕ (D) ਹਾਂ-ਵਾਚੀ

ਪੈਰੂ ਦੇ ਆਧਾਰ 'ਤੇ ਚੁੱਤਰ ਦਿਓ (ਪ੍ਰਸ਼ਨ 170-172) :

ਸਹਿਣਸ਼ੀਲਤਾ ਮਨ ਦੀ ਉਹ ਅਵਸਥਾ ਹੈ ਜਦੋਂ ਤੁਸੀਂ ਨਾ ਗੁੱਸੇ ਹੋਵੋ ਤੇ ਨਾ ਹੀ ਉਦਾਸ। ਇਹ ਟਿਕਾਓ ਦੀ ਅਵਸਥਾ ਹੈ। ਜਿਸ ਦੀ ਕਿਸੇ ਕੰਮ, ਕਿਸੇ ਪਿਆਰ, ਕਿਸੇ ਲਗਨ, ਕਿਸੇ ਜਨੂੰਨ ਨਾਲ ਲਿਵ ਲੰਗੀ ਹੋਵੇ, ਉਸ ਕੋਲ ਗੁੱਸੇ ਹੋਣ ਲਈ ਸਮਾਂ ਨਹੀਂ ਹੁੰਦਾ।

170. ਪੈਰੂ ਦਾ ਢੁੱਕਵਾਂ ਸਿਰਲੇਖ ਚੁਣੋ :

- (A) ਸਹਿਜਤਾ (B)  ਸਹਿਣਸ਼ੀਲਤਾ (C) ਪਿਆਰ ਤੇ ਲਗਨ (D) ਗੁੱਸਾ

171. ਪੈਰੂ ਵਿੱਚ 'ਲਿਵ' ਕਿਹੜੇ ਅਰਥਾਂ ਵਿੱਚ ਵਰਤਿਆ ਗਿਆ ਹੈ ?

- (A) ਮਨ ਦੀ ਅਵਸਥਾ (B) ਪਿਆਰ ਦੀ ਅਵਸਥਾ (C)  ਪਿਆਰ ਦੀ ਲਗਨ (D) ਸਹਿਜਤਾ ਤੇ ਗੁੱਸਾ

172. ਜਿਸ ਨੂੰ ਪਿਆਰ ਦੀ ਲਗਨ ਲੱਗੀ ਹੋਵੇ, ਉਸ ਕੋਲ ਕਿਸ ਕੰਮ ਲਈ ਸਮਾਂ ਨਹੀਂ ਹੁੰਦਾ ?

- (A) ਰੋਣ ਲਈ (B) ਨੱਚਣ ਲਈ (C)  ਗੁੱਸੇ ਹੋਣ ਲਈ (D) ਖੇਡਣ ਲਈ

173. ਉਹ ਥਾਂ ਜਿਹੜੀ ਸਾਰੇ ਪਿੰਡ ਦੀ ਸਾਂਝੀ ਹੋਵੇ, ਉਸ ਨੂੰ ਕਹਿੰਦੇ ਹਨ :

- (A) ਪੰਚਾਇਤੀ (B)  ਸ਼ਾਮਲਾਟ (C) ਸਰਪੰਚੀ (D) ਸ਼ਾਮਰਾਜੀ

174. 'ਆਗਿਆਕਾਰ' ਸ਼ਬਦ ਵਿੱਚ ਕਿਹੜਾ ਪਛੇਤਰ ਵਰਤਿਆ ਗਿਆ ਹੈ ?

- (A) ਆਕਾਰ (B)  ਕਾਰ (C) ਅਕਾਰ (D) ਇਹਨਾਂ ਵਿੱਚੋਂ ਕੋਈ ਵੀ ਨਹੀਂ

175. ਹੇਠ ਲਿਖੇ ਸ਼ਬਦਾਂ ਵਿੱਚੋਂ ਕਿਹੜਾ ਸ਼ਬਦ 'ਅਲੌਕਿਕ' ਦਾ ਸਮਾਨਾਰਥੀ ਨਹੀਂ ਹੈ ?

- (A) ਅਦਭੁਤ (B) ਅਨੋਖਾ (C) ਬੇਮਿਸਾਲ (D)  ਸਥਿਰ

176. ਨਾਂਵ ਕਿੰਨੀ ਕਿਸਮ ਦੇ ਹੁੰਦੇ ਹਨ ?

- (A) ਚਾਰ (B) ਤਿੰਨ (C)  ਪੰਜ (D) ਛੇ

177. 'ਕਣਕ ਖੇਤ, ਕੁੜੀ ਪੇਟ ਆ ਜਵਾਈਆ ਮੰਡੇ ਖਾ' ਦਾ ਸੰਬੰਧ ਕਿਸ ਰੂਪ ਨਾਲ ਹੈ ?

- (A) ਸੁਭਾਰਤ (B) ਮੁਹਾਵਰਾ (C) ਟੱਪੇ (D)  ਅਖਾਣ

178. ਭਾਸ਼ਾ ਦੀ ਸੰਚਾਰ ਪ੍ਰਕ੍ਰਿਆ ਦਾ ਅੰਗ ਹੈ :

- (A) ਬੋਲ (B) ਇਸ਼ਾਰਾ (C) ਹਾਵ-ਭਾਵ (D)  ਉਪਰੋਕਤ ਸਾਰੇ

179. 'ਬੱਚਿਓ ! ਰੋਲਾ ਨਾ ਪਾਓ' ਵਾਕ ਵਿੱਚ 'ਬੱਚਿਓ' ਸ਼ਬਦ ਕਿਸ ਤਰ੍ਹਾਂ ਦਾ ਸ਼ਬਦ ਹੈ ?

- (A) ਵਿਅੰਗਮਈ (B)  ਸੰਬੋਧਨੀ (C) ਛਿਟਕਾਰਮਈ (D) ਕਰੁਣਾਮਈ

180. 'ਮੇਜ਼ ਉਪਰ ਪੁਸਤਕਾਂ ਪਈਆਂ ਹਨ' ਇਸ ਵਾਕ ਵਿੱਚ 'ਮੇਜ਼ ਉਪਰ' ਦਾ ਕਾਰਕ ਹੈ :

- (A) ਸੰਬੋਧਨ ਕਾਰਕ (B) ਸੰਪਾਦਨ ਕਾਰਕ (C)  ਅਧਿਕਰਨ ਕਾਰਕ (D) ਕਰਮ ਕਾਰਕ

## HINDI/PUNJABI VERSIONS (Q. No. 1-90)

- |  |  |
|--|--|
| <p>1. दी गई श्रृंखला में से अगला संबर किसका आएगा ?<br/>17, 13, 11, 7, 5, 1 ?<br/>(A) 1 (B) 2<br/>(C) 0 (D) -1</p>  | <p>1. ਅੱਗੇ ਦਿੱਤੀ ਲੜੀ ਵਿੱਚ ਕਿਹੜਾ ਨੰਬਰ ਆਉਂਦਾ ਹੈ ?<br/>17, 13, 11, 7, 5, 1 ?<br/>(A) 1 (B) 2<br/>(C) 0 (D) -1</p>   |
| <p>2. निम्नलिखित श्रृंखला में से लुप्त संख्या ढुंढे :<br/>240, _____ 120, 40, 10, 2<br/>(A) 480 (B) 240<br/>(C) 220 (D) 126</p>  | <p>2. ਨਿਮਨਲਿਖਿਤ ਲੜੀ ਵਿੱਚ ਗੁੰਮ ਨੰਬਰ ਲੱਭੋ :<br/>240, _____ 120, 40, 10, 2<br/>(A) 480 (B) 240<br/>(C) 220 (D) 126</p>  |
| <p>3. निम्नलिखित श्रृंखला में से गतत अंक का पता लगाएं :<br/>7, 19, 17, 42, 91, 172, 297<br/>(A) 9 (B) 91<br/>(C) 42 (D) 172</p>  | <p>3. ਨਿਮਨਲਿਖਿਤ ਲੜੀ ਵਿੱਚੋਂ ਗਲਤ ਲੱਭੋ :<br/>7, 19, 17, 42, 91, 172, 297<br/>(A) 9 (B) 91<br/>(C) 42 (D) 172</p>  |
| <p>4. वह शब्द ढुंढे जो अन्य शब्दों के समान कम से कम है :<br/>(i) जेबरा<br/>(ii) शेर<br/>(iii) टाइगर<br/>(iv) घोडा<br/>(v) जिराफ<br/>(A) (i) (B) (iii)<br/>(C) (iv) (D) (v)</p>   | <p>4. ਉਹ ਸ਼ਬਦ ਲੱਭੋ ਜੋ ਘੱਟ ਤੋਂ ਘੱਟ ਦੂਜੇ ਸ਼ਬਦਾਂ ਵਰਗੇ ਹੋਣ :<br/>(i) ਜੈਬਰਾ<br/>(ii) ਸ਼ੇਰ<br/>(iii) ਟਾਈਗਰ<br/>(iv) ਘੋੜਾ<br/>(v) ਜਿਰਾਫ<br/>(A) (i) (B) (iii)<br/>(C) (iv) (D) (v)</p>  |
| <p>5. उस जोड़ी को चुनें, जो अन्य चार जोड़ियों से संबंधित होने के कारण अलग है :<br/>(i) सोना : गहने<br/>(ii) कपड़ा : वस्त्र<br/>(iii) लकड़ी : फर्नीचर<br/>(iv) चमड़ा : जूते<br/>(v) मिट्टी के बर्तन : मिट्टी<br/>(A) (v) (B) (iii)<br/>(C) (ii) (D) (i)</p> | <p>5. ਉਸ ਜੋੜੀ ਨੂੰ ਚੁਣੋ, ਜੋ ਕਿ ਦੂਜੇ ਚਾਰ ਜੋੜਿਆਂ ਤੋਂ ਸੰਬੰਧਿਤ ਹੋਣ ਦੇ ਕਾਰਣ ਵੱਖਰੇ ਹਨ :<br/>(i) ਸੋਨਾ : ਗਹਿਣੇ<br/>(ii) ਕਪੜਾ : ਵਸਤਰ<br/>(iii) ਲਕੜੀ : ਫਰਨੀਚਰ<br/>(iv) ਚਮੜਾ : ਜੂਤੇ<br/>(v) ਮਿੱਟੀ ਦੇ ਬਰਤਨ : ਮਿੱਟੀ<br/>(A) (v) (B) (iii)<br/>(C) (ii) (D) (i)</p> |
| <p>6. अक्षरों के ग्राफ में से ढुंढे जो अन्य तीन से अलग है :<br/>(A) USNIK (B) VTOJE<br/>(C) UPKEA (D) UMIDB</p>  | <p>6. ਅੱਖਰਾਂ ਦਾ ਗ੍ਰਾਫ ਲੱਭੋ ਜੋ ਦੂਜੇ ਤਿੰਨ ਤੋਂ ਵੱਖਰੇ ਹਨ ?<br/>(A) USNIK (B) VTOJE<br/>(C) UPKEA (D) UMIDB</p>   |

7. पहले दो के बीच संबंध के आधार पर प्रश्न चिह्न (?) बदलें :  
 पक्षीविज्ञानी : पक्षी :: मानवविज्ञानी : ?  
 (A) पशु (B) कीड़े  
 (C) खनिज (D) मानव जाति
8. चार विकल्पों के बीच शब्दों की जोड़ी का पता लगाएं जो दिए गए जोड़े के संबंध के समान है :  
 पौधा : पेड़ :: \_\_\_\_\_ : \_\_\_\_\_  
 (A) घोड़ा : घोड़ी (B) छात्र : शिक्षक  
 (C) कली : फूल (D) पेड़ : फर्नीचर
9. रिक्त स्थान भरने के लिए उपयुक्त जोड़ीदार शब्द चुनें :  
 \_\_\_\_\_ का चाचा से संबंध है : वैसे ही माँ का संबंध \_\_\_\_\_ से है।  
 (A) भाई, परवरिश (B) पिता, चाची  
 (C) बचेरा, सुंदर (D) चाची, पिता
10. सहमत के सर्वाधिक विपरीत अर्थ वाले शब्द का पता लगाएं :  
 (A) एहसान करना (B) अनिच्छा  
 (C) विचलित (D) निर्धारित
1. 'मलायन' के समान अर्थ वाले शब्द का पता लगाएं :  
 (A) विकास (B) छुट्टी  
 (C) स्वतंत्रता (D) काल्पनिक
2. यदि SEND-MONEY को QCLB-KMLCW के रूप में सांकेतिक किया जाता है, तो पहले और अंतिम अक्षर MOST-SECRET में समान सांकेतिक क्या होंगे ?  
 (A) R, K (B) K, R  
 (C) O, V (D) V, U
3. यदि :  
 (i) 'कुओ कुई हीर का अर्थ है' लड़का अच्छा है'  
 (ii) 'लाइ कुओ मेया का अर्थ है' मीना अच्छी है'  
 (iii) 'रुओ लेव मेया का अर्थ है' सभी अच्छे हैं'  
 (iv) 'सी है कुई' का अर्थ कुत्ता अच्छा था'  
 निम्नलिखित में से कौन-सा शब्द लड़के के लिए है ?  
 (A) कुओ (Quo) (B) कुई (Cui)  
 (C) हीर (Heer) (D) लाइ (Lai)
7. पहिले ਦੋ ਦੇ ਵਿਚਕਾਰ ਦੇ ਸੰਬੰਧਾਂ ਦੇ ਆਧਾਰ ਤੇ ਪ੍ਰਸ਼ਨ ਚਿੰਨ੍ਹ (?) ਬਦਲੋ :  
 ਪੰਛੀ ਵਿਗਿਆਨੀ : ਪੰਛੀ :: ਮਾਨਵ ਵਿਗਿਆਨੀ ?  
 (A) ਜਾਨਵਰ (B) ਕੀਰੇ  
 (C) ਖਨਿਜ (D) ਮਾਨਵ-ਜਾਤਿ
8. ਚਾਰ ਵਿਕਲਪਾਂ ਵਿੱਚੋਂ ਸ਼ਬਦਾਂ ਦੀ ਜੋੜੀ ਲੱਭੋ, ਜਿਹਨਾਂ ਦਾ ਇਕੋ ਜਿਹਾ ਸੰਬੰਧ ਹੈ ਜੋ ਦਿੱਤੇ ਗਏ ਜੋੜਿਆਂ ਵਿੱਚ ਹੈ :  
 ਪੌਧਾ : ਦਰਖਤ :: \_\_\_\_\_ : \_\_\_\_\_  
 (A) ਘੋੜਾ : ਘੋੜੀ (B) ਵਿਦਿਆਰਥੀ : ਟੀਚਰ  
 (C) ਕਲੀ : ਫੁੱਲ (D) ਪੇਂਟ : ਫਰਨੀਚਰ
9. ਖਾਲੀ ਥਾਵਾਂ ਨੂੰ ਭਰਨ ਲਈ ਢੁੱਕਵੇਂ ਜੋੜਿਆਂ ਦੀ ਚੋਣ ਕਰੋ :  
 \_\_\_\_\_ ਚਾਚਾ ਦੇ ਨਾਲ ਸੰਬੰਧ ਹੈ। ਉਸੇ ਤਰ੍ਹਾਂ ਮਾਂ ਦਾ ਸੰਬੰਧ \_\_\_\_\_ ਨਾਲ ਹੈ।  
 (A) ਭਰਾ, ਪਰਵਰਿਸ਼ (B) ਪਿਤਾ, ਚਾਚੀ  
 (C) ਬਚੇਰਾ, ਸੁੰਦਰ (D) ਚਾਚੀ, ਪਿਤਾ
10. ਵਿਲਿੰਗ ਦਾ ਸਭ ਤੋਂ ਵੱਧ ਉਲਟ ਅਰਥ ਕੱਢਣ ਵਾਲਾ ਸ਼ਬਦ ਲੱਭੋ :  
 (A) ਅਹਿਸਾਨ ਕਰਨਾ (B) ਅਨਿਚਛਾ  
 (C) ਵਿਚਲਿਤ (D) ਨਿਰਧਾਰਿਤ
11. ਪਲਾਯਨ ਦੇ ਸਮਾਨ ਅਰਥ ਵਾਲੇ ਸ਼ਬਦ ਦਾ ਪਤਾ ਲੱਭੋ :  
 (A) ਨਿਕਾਸ (B) ਛੁੱਟੀ  
 (C) ਸਵਤੰਤਰਤਾ (D) ਕਾਲਪਨਿਕ
12. ਜੇਕਰ SEND-MONEY ਨੂੰ QCLB-KMLCW ਦੇ ਤੌਰ ਤੇ ਸੰਕੇਤਕ ਕੀਤਾ ਗਿਆ ਹੈ, ਤਾਂ ਸਭ ਤੋਂ ਪਹਿਲੇ ਅਤੇ ਅਖੀਰਲੇ ਅੱਖਰ ਨੂੰ MOST-SECRET ਵਿੱਚ ਬਰਾਬਰ ਸੰਕੇਤਕ ਕੀ ਹੋਵੇਗਾ ?  
 (A) R, K (B) K, R  
 (C) O, V (D) V, U
13. ਜੇ :  
 (i) 'ਕੁਓ ਕੁਈ ਹੀਰ' ਦਾ ਅਰਥ ਹੈ 'ਮੁੰਡਾ ਚੰਗਾ ਹੈ'  
 (ii) 'ਲਾਈ ਕੁਓ ਮੇਯਾ' ਦਾ ਅਰਥ ਹੈ, 'ਮੀਨਾ ਅੱਛੀ ਹੈ'  
 (iii) 'ਰੁਓ ਲੇਵ ਮੇਯਾ' ਦਾ ਅਰਥ ਹੈ, 'ਸੱਭ ਠੀਕ ਹੈ'  
 (iv) 'ਸੀ ਹੈ ਕੁਈ' ਦਾ ਅਰਥ 'ਕੁੱਤਾ ਚੰਗਾ ਸੀ'  
 ਨਿਮਨਲਿਖਿਤ ਵਿੱਚੋਂ ਕਿਹੜਾ ਸ਼ਬਦ ਮੁੰਡੇ ਲਈ ਹੈ ?  
 (A) ਕੁਓ (Quo) (B) ਕੁਈ (Cui)  
 (C) ਹੀਰ (Heer) (D) ਲਾਈ (Lai)

14. यदि 'UNDERSTAND' को 1234567823 के रूप में सांकेतिक किया जाता है, तो 'START' को कैसे सांकेतिक किया जाएगा ?

- (A) 56,781 (B) 67,857  
(C) 67,247 (D) 65,325

प्रश्न संख्या 15—16 के लिए सूचना :—

चार लड़के राज, प्रेम, वेद और अशोक के साथ चार लड़कियाँ सुषमा, कुसुम, विमला और पूनम का दोस्ताना है, जल्द ही नहीं कि उसी क्रम में। सुषमा और विमला दोस्त हैं, वेद की गर्लफ्रेंड सुषमा और विमला को पसंद नहीं करती, कुसुम वेद की परवाह नहीं करती है, प्रेम की गर्लफ्रेंड का सुषमा के साथ दोस्ताना है, सुषमा को राज पसंद नहीं है।

15. राज की गर्लफ्रेंड कौन है ?

- (A) सुषमा (B) कुसुम  
(C) विमला (D) पूनम

16. सुषमा और विमला किसे पसंद नहीं है ?

- (A) पूनम (B) राज  
(C) कुसुम (D) अशोक

प्रश्न संख्या 17—18 के लिए सूचना :—

(i) A, B, C, D, E, F और G केंद्र के सामने एक घड़ के चारों ओर बैठे हैं

(ii) G जो दूसरे नंबर पर है वह C के बायें ओर है जो बिल्कुल सीधा F के बायें है।

(iii) A जो तीसरे नंबर पर है वह E के बायें ओर है।

(iv) D और E के बीच में B है

17. निम्नलिखित में से कौन-सा गलत है ?

- (A) A जो चौथे नंबर पर है वह E के बायें ओर है  
(B) G जो बिल्कुल सीधा है वह D के बायें ओर है  
(C) F जो तीसरे नंबर पर है वह D के बायें ओर है  
(D) B जो बिल्कुल सीधा है वह D के बायें ओर है।

18. F की स्थिति क्या है ?

- (A) D जो चौथे नंबर पर है वो बायें ओर है  
(B) C बिल्कुल सीधा बायें ओर है  
(C) A और E बीच में है  
(D) A बिल्कुल सीधा बायें ओर है

14. ਜੇਕਰ 'UNDERSTAND' ਨੂੰ 1234567823 ਦੇ ਤੌਰ ਤੇ ਸੰਕੇਤਕ ਕੀਤਾ ਗਿਆ ਹੈ, ਤਾਂ 'START' ਨੂੰ ਕਿਵੇਂ ਸੰਕੇਤਕ ਕੀਤਾ ਜਾਏਗਾ ?

- (A) 56,781 (B) 67,857  
(C) 67,247 (D) 65,325

ਪ੍ਰਸ਼ਨ ਨੰਬਰ 15—16 ਲਈ ਜਾਣਕਾਰੀ :—

ਚਾਰ ਮੁੰਡੇ ਰਾਜ, ਪ੍ਰੇਮ, ਵੇਦ ਅਤੇ ਅਸ਼ੋਕ ਦੇ ਨਾਲ ਚਾਰ ਲੜਕੀਆਂ ਸੁਸ਼ਮਾ, ਕੁਸੁਮ, ਵਿਮਲਾ ਅਤੇ ਪੂਨਮ ਨਾਲ ਦੋਸਤਾਨਾ ਹੈ, ਜ਼ਰੂਰੀ ਨਹੀਂ ਕਿ ਉਸੀ ਕ੍ਰਮ ਵਿੱਚ। ਸੁਸ਼ਮਾ ਅਤੇ ਵਿਮਲਾ ਦੋਸਤ ਹਨ, ਵੇਦ ਦੀ ਗੁਲਫਰੈਂਡ ਸੁਸ਼ਮਾ ਅਤੇ ਵਿਮਲਾ ਨੂੰ ਪਸੰਦ ਨਹੀਂ ਕਰਦੀ, ਕੁਸੁਮ ਵੇਦ ਦੀ ਪਰਵਾਹ ਨਹੀਂ ਕਰਦੀ ਹੈ, ਪ੍ਰੇਮ ਦੀ ਗੁਲਫਰੈਂਡ ਸੁਸ਼ਮਾ ਨਾਲ ਦੋਸਤਾਨਾ ਹੈ, ਸੁਸ਼ਮਾ ਨੂੰ ਰਾਜ ਪਸੰਦ ਨਹੀਂ ਹੈ।

15. ਰਾਜ ਦੀ ਗੁਲਫਰੈਂਡ ਕੌਣ ਹੈ ?

- (A) ਸੁਸ਼ਮਾ (B) ਕੁਸੁਮ  
(C) ਵਿਮਲਾ (D) ਪੂਨਮ

16. ਸੁਸ਼ਮਾ ਅਤੇ ਵਿਮਲਾ ਕਿਸ ਨੂੰ ਪਸੰਦ ਨਹੀਂ ਹੈ ?

- (A) ਪੂਨਮ (B) ਰਾਜ  
(C) ਕੁਸੁਮ (D) ਅਸ਼ੋਕ

ਪ੍ਰਸ਼ਨ ਨੰਬਰ 17—18 ਲਈ ਜਾਣਕਾਰੀ :—

(i) A, B, C, D, E, F ਅਤੇ G ਕੇਂਦਰ ਦੇ ਸਾਮਨੇ ਇੱਕ ਚੱਕਰ ਦੇ ਦੁਆਲੇ ਬੈਠੇ ਹਨ

(ii) G ਜੋ ਦੂਜੇ ਨੰਬਰ ਤੇ ਹੈ ਅਤੇ C ਦੇ ਖੱਬੇ ਪਾਸੇ ਹੈ ਜੋ ਬਿਲਕੁਲ ਸਿੱਧਾ F ਦੇ ਖੱਬੇ ਪਾਸੇ ਹੈ

(iii) A ਜੋ ਤੀਸਰੇ ਨੰਬਰ ਤੇ ਹੈ ਅਤੇ E ਦੇ ਸੱਜੇ ਪਾਸੇ ਹੈ

(iv) D ਅਤੇ E ਦੇ ਵਿੱਚ B ਹੈ।

17. ਨਿਮਨਲਿਖਿਤ ਵਿੱਚੋਂ ਕਿਹੜਾ ਗਲਤ ਹੈ ?

- (A) A ਜੋ ਚੌਥੇ ਨੰਬਰ ਤੇ ਹੈ ਅਤੇ E ਦੇ ਸੱਜੇ ਪਾਸੇ ਹੈ  
(B) G ਜੋ ਸਿੱਧਾ ਹੈ D ਦੇ ਸੱਜੇ ਪਾਸੇ ਹੈ  
(C) F ਜੋ ਤੀਸਰੇ ਨੰਬਰ ਤੇ ਹੈ ਅਤੇ D ਦੇ ਸੱਜੇ ਪਾਸੇ ਹੈ  
(D) B ਜੋ ਸਿੱਧਾ ਹੈ D ਦੇ ਖੱਬੇ ਪਾਸੇ ਹੈ

18. F ਦੀ ਸਥਿਤੀ ਕੀ ਹੈ ?

- (A) D ਜੋ ਚੌਥੇ ਨੰਬਰ ਤੇ ਹੈ ਸੱਜੇ ਪਾਸੇ ਹੈ  
(B) C ਬਿਲਕੁਲ ਸਿੱਧਾ ਹੈ ਅਤੇ ਖੱਬੇ ਪਾਸੇ ਹੈ  
(C) A ਅਤੇ E ਵਿਚਕਾਰ ਹੈ  
(D) A ਬਿਲਕੁਲ ਸਿੱਧਾ ਹੈ ਅਤੇ ਸੱਜੇ ਪਾਸੇ ਹੈ

9. कथन के आधार पर, चार निष्कर्ष निकाले गए हैं। एक सही का पता लगाएं :

कथन : 'कई रचनात्मक व्यक्ति कलाकार बन जाते हैं'  
निष्कर्ष :-

- (A) एक रचनात्मक व्यक्ति निश्चित रूप से एक कलाकार बन जाएगा  
(B) रचनात्मकता के बिना कलाकार बनना संभव नहीं है  
(C) कलाकार बनने के लिए उच्च स्तर की रचनात्मकता की आवश्यकता होती है  
(D) कुछ कलाकार रचनात्मक व्यक्ति होते हैं

10. कथन के अनुसार तीन मान्यताएं I, II और III में से, अंतर्निहित मान्यता चुनें :

"एक विज्ञापन ने सूचना दी है कि हम नहीं चाहते कि आप हमारे उत्पादक को अखबार में देखें बल्कि हमारी दुकान पर जाकर पूरी तरह से देखें।"

मान्यताएं :-

- I. लोग इसके विज्ञापन को देखकर किसी उत्पाद को खरीदने का निर्णय लेते हैं  
II. असामान्य अपील ग्राहकों को आकर्षित कर सकती है  
III. लोग उत्पाद को देखने के लिए ज़रिदारी करने आ सकते हैं

- (A) निहितार्थ में से कोई नहीं  
(B) केवल I और II निहितार्थ हैं  
(C) केवल II और III निहितार्थ हैं  
(D) सभी निहितार्थ हैं

11. कथन के चार तर्कों का अनुसरण करें। सबसे सबल तर्क का पता लगाएं :

कथन : "भारत में प्रत्येक कॉलेज के छात्र के लिए अनिवार्य सैन्य प्रशिक्षण होना चाहिए।"

तर्क :-

- (i) हाँ, यह एक शक्तिशाली राष्ट्र के निर्माण का एकमात्र तरीका है  
(ii) नहीं, मजबूरी हमेशा अकारि की ओर ले जाती है  
(iii) हाँ, यह युवा पीढ़ी में अनुशासन प्रदान करने का एकमात्र तरीका है  
(iv) नहीं, यह बुनियादी लोकतांत्रिक अधिकार के खिलाफ है  
(A) केवल (i) और (iii) सबल हैं  
(B) केवल (ii) और (iv) सबल हैं  
(C) केवल (i) और (iv) सबल हैं  
(D) सभी सबल हैं

19. बिआन दे आघार उे चार सिंटे कंदे गटे हन। ईक सही लंबे बिआन : 'घरुत सारे रचनारतमक विअकती कलाकार बट जांटे हन'

परिचय :-

- (A) ईक रचनारतमक विअकती घरुत ईक कलाकार बट जांटेगा  
(B) रचनारतमकता उें घरुत कलाकार बटनटा संभव नही है  
(C) कलाकार बटन लटी घरुत सडर दी रचनारतमकता दी लेंड हूंदी है  
(D) कुछ कलाकार रचनारतमक विअकती हूंदे हन

20. बिआन दे अनुसारा उंन धारनारवां I, II अडे III विंटे, संधेध धारनार दी चेंड करे :

"ईक ईसडिधार ने सूचना दिंती है कि असी नहीं चारुंटे कि उसीं सारडे उीउधर नुं अडसारा विंर वेधे, डलक सारडी दुकरान उे जाके पूरी उरुं वेधे।"

धारनारवां :-

- I. लेंक ईसडे विगिआधन नुं देधट उें साराड केडी उीउधर धरीदर दार डैसलर करडे हन  
II. असधारन अधील गारुकरां नुं सिंर सकरदी है  
III. लेंक उीउधर देधट लटी धरीदरारी करन आ सकरे हन

- (A) संधेध केडी दी नहीं  
(B) सिरड I अडे II संधेध हन  
(C) सिरड II अडे III ही संधेध हन  
(D) सारे संधेध हन

21. चार आरगुमेंट सटेमेंटों की पालना करें। संड उें मसबुड दलील नुं लंबे :

बिआन : "डारर विंर हर ईक कालस दे विदिआरधी लटी लारामी डेसी सिधलरटी हेंटी चारुंदी है।"


आरगुमेंट :-

- (i) हाँ, ईह ईक शकतीशाली रारुडर बरारुड दार ईके ईक उरीकरा है  
(ii) नहीं, मसबुडी हमेसां बडरतमीची वल ले सारुदी है  
(iii) हाँ, नेंसवान पीडुं विंर अनुसारान देर दार सिरड ईक उरीकरा है  
(iv) नहीं, ईह मुल नमरुडी हक दे विरुध है  
(A) सिरड (i) अडे (iii) मसबुड हन  
(B) सिरड (ii) अडे (iv) मसबुड हन  
(C) सिरड (i) अडे (iv) मसबुड हन  
(D) सारे मसबुड हन

प्रश्न संख्या 22—24 के लिए सूचना :—

2011 से 2016 छः साल के लिए एक इलाके में प्रति माह रु. 20,000/- से अधिक आय वाले लोगों की संख्या (लाखों में) को निम्नलिखित ग्राफ में दर्शाया गया है।


People in Lakhs



प्रश्न नंबर 22—24 लਈ जाटकाठी:—

2011 ਤੋਂ 2016 ਛੇ ਸਾਲ ਦੇ ਲਈ ਇੱਕ ਇਲਾਕੇ ਦੇ ਪ੍ਰਤੀ ਮਹੀਨਾ 20,000/- ਰੁਪਏ ਤੋਂ ਵੱਧਟਿੱਕਮ (ਲੱਖਾਂ ਵਿੱਚ) ਲੋਕਾਂ ਦੀ ਗਿਣਤੀ ਨਿਮਨਲਿਖਿਤ ਗਰਾਫ ਵਿੱਚ ਦਰਸਾਇਆ ਗਿਆ ਹੈ।

People in Lakhs



22. दिए गए वर्ष के लिए प्रति माह रु. 20,000/- से अधिक आय वाले लोगों की संख्या में औसत संख्या क्या है ?

- (A) 25 (B) 30  
(C) 33 (D) 36

23. दिए गए वर्षों की पहली छमाही में अधिक की दूसरी छमाही की तुलना में रु. 20,000/- से अधिक वेतन वाले लोगों की संख्या में कितना अंतर है ?

- (A) 75 लाख (B) 70 लाख  
(C) 50 लाख (D) 55 लाख

24. लोगों की संख्या में रु. 20,000/- से उच्च वेतन पाने वाले लोगों की श्रेणी में सबसे अधिक उछाल किस वर्ष आया था ?

- (A) 2014-15 के बीच में (B) 2011-12 के बीच में  
(C) 2012-13 के बीच में (D) 2013-14 के बीच में

22. ਦਿੱਤੇ ਗਏ ਸਾਲ ਲਈ ਪ੍ਰਤੀ ਮਹੀਨਾ 20,000/- ਰੁਪਏ ਤੋਂ ਆਮਦਨ ਵਾਲੇ ਲੋਕਾਂ ਦੀ ਔਸਤ ਗਿਣਤੀ ਕੀ ਹੈ ?

- (A) 25 (B) 30  
(C) 33 (D) 36

23. ਦਿੱਤੇ ਗਏ ਸਾਲਾਂ ਦੇ ਪਹਿਲੇ ਸਮਾਹੀ ਅਵਧੀ ਦੀ ਦੂਜੇ ਸਮਾਹੀ ਤੁਲਨਾ ਵਿੱਚ 20,000/- ਰੁਪਏ ਤੋਂ ਵੱਧ ਤਨਖਾਹ ਵਾਲੇ ਲੋਕਾਂ ਗਿਣਤੀ ਵਿੱਚ ਕਿੰਨਾ ਫਰਕ ਹੈ ?

- (A) 75 ਲੱਖ (B) 70 ਲੱਖ  
(C) 50 ਲੱਖ (D) 55 ਲੱਖ

24. ਲੋਕਾਂ ਦੀ ਗਿਣਤੀ ਵਿੱਚ 20,000/- ਰੁਪਏ ਤੋਂ ਉੱਚ ਤਨਖਾਹ ਪੈਣ ਵਾਲੇ ਲੋਕਾਂ ਦੀ ਸ਼੍ਰੇਣੀ ਵਿੱਚ ਸਭ ਤੋਂ ਵੱਧ ਉਛਾਲ ਕਿਸ ਸਾਲ ਆਇਆ ਸੀ ?

- (A) 2014-15 ਦੇ ਵਿਚਕਾਰ (B) 2011-12 ਦੇ ਵਿਚਕਾਰ  
(C) 2012-13 ਦੇ ਵਿਚਕਾਰ (D) 2013-14 ਦੇ ਵਿਚਕਾਰ

25. नीचे दिए गए कथन पर दी गई चार टिप्पणियों में से सही टिप्पणी चुनें :

कथन : "कार्यों को स्थगित करने से सावधान रहें : शीघ्र निर्णयों पर अवश्य कार्रवाई की जानी चाहिए"

टिप्पणी :

- (A) कथन एक सत्य है  
(B) कथन एक सलाह है  
(C) कथन एक राय है  
(D) कथन पक्षपाती है

26. 'X' एक सूखा राज्य है क्योंकि उस राज्य में कानून द्वारा शराब पीना मना है

निम्नलिखित में से कौन सा कथन है, जो उपरोक्त कथन को धार्मिक शक्तिहीन बनाता है ?

- (A) राज्य 'X' के उपरोक्त अधिकांश अन्य राज्यों की तुलना में ज्यादा शराब को स्थानांतरित करते हैं  
(B) राज्य 'X' में अपराध दर सबसे अधिक है  
(C) राज्य में बड़े पैमाने पर शराब का अवैध बजारोबार होता है  
(D) 'X' में शराब परोसना सबसे लोकप्रिय फीशन है

प्रश्न संख्या 27—30 के लिए सूचना :—

एक परिवार के सभी छः सदस्य A, B, C, D, E और F एक साथ खाता कर रहे थे। C का बेटा B है लेकिन B की माँ C नहीं है। A और C एक विवाहित जोड़ा है। C का भाई E है। A की बेटी D है। B का भाई F है।

27. परिवार में कितने पुरुष सदस्य हैं ?

- (A) 1 (B) 3  
(C) 2 (D) 4

25. निम्नलिखित दिये बिना 'ते दिये चार अवलोकन' विचकार सही अवलोकन चुनें :

बिआन: "कॉम नू मुलतवी करन तें बचे : वरुंत डेसलियां उंपर कारवादी कीती जाटी चाहीदी है"

अवलोकन :

- (A) बिआन टिक रॉब है  
(B) बिआन टिक सलाह है  
(C) बिआन टिक राय है  
(D) बिआन पक्षपाती है

26. 'X' टिक खसक राज है जिवे कि राज विंच कानून दूआरा शराब पीना मनुा है :

निम्नलिखित बिआन विंचे किहता बिआन है जे कि उंपरकत बिआन नू विजवासायेक शकतीहीन बटावुदा है ?

- (A) राज 'X' के अपतकार सिआदातर हेरना सुबियां नाले सिआदा शराब पीदे हन  
(B) राज 'X' दी सड तें वंध अपराध दी दर है  
(C) राज विंच वंडे पैमाने 'ते शराब दा डीर कानूनी वपार हुंदा है  
(D) 'X' विंच शराब वरती जाटी वचेरे पुसिंध डेसलन है

प्रश्न नंबर 27—30 लਈ जाटकारी :—

टिक परिवार दे सड डे मैबर A, B, C, D, E अडे F नाल सारे जातरा कर रहे सन। C दा बेटा B है, लेकिन B दी माँ C नहीं है। A अडे C टिक विआहे जेते हन। C दा डरा E है। A दी बेटी D है। B दा डरा F है।

27. परिवार विंच किंते पुरस मैबर हन ?

- (A) 1 (B) 3  
(C) 2 (D) 4



28. B की माँ कौन है ?

- (A) D (B) A  
(C) C (D) E

29. A के कितने बच्चे हैं ?

- (A) 1 (B) 2  
(C) 3 (D) 4

30. E कैसे D से संबंधित है ?

- (A) पिता  
(B) भाई  
(C) चाचा  
(D) निर्धारित नहीं किया जा सकता है

31. ड्राफ्ट राष्ट्रीय शिक्षा नीति, 2019 के लिए समिति का अध्यक्ष \_\_\_\_\_ है।

- (A) डॉ. के. कस्तूरिंद्रगन (B) श्री प्रकाश जावड़ेकर  
(C) प्रो. संजुल भार्गव (D) प्रो. एम.के. श्रीधर

32. भारत में अंग्रेजी शिक्षा का मैगना कार्टा \_\_\_\_\_ है।

- (A) चार्टर अधिनियम (1813)  
(B) भारत में शिक्षा के लिए मैकुले का समय (1835)  
(C) बुक्स डिस्पैच ऑन एजुकेशन (1854)  
(D) सार्वेण्ट कमीशन की रिपोर्ट (1944)

33. \_\_\_\_\_ वह डिग्री है जिसके लिए एक परीक्षण मापता है कि उसे क्या मापना चाहिए।

- (A) विश्वसनीयता (B) वैधता  
(C) उपयोगिता (D) निष्पक्षता

34. शरीर के किस अंग में पित्त द्रव उत्पन्न होता है ?

- (A) जिगर (B) अग्न्याशय  
(C) पित्ताशय (D) गुर्दे

35. डेसिबल \_\_\_\_\_ को मापने की इकाई है।

- (A) प्रकाश की गति (B) ध्वनि की तीव्रता  
(C) ताप की तीव्रता (D) रेडियो तरंग आवृत्ति

28. B ਦੀ ਮਾਂ ਕੌਣ ਹੈ ?

- (A) D (B) A  
(C) C (D) E

29. A ਦੇ ਕਿੰਨੇ ਬੱਚੇ ਹਨ ?

- (A) 1 (B) 2  
(C) 3 (D) 4

30. E ਦਾ D ਤੋਂ ਸੰਬੰਧਤ ਹੈ ?

- (A) ਪਿਤਾ  
(B) ਭਰਾ  
(C) ਚਾਚਾ  
(D) ਨਿਰਧਾਰਤ ਨਹੀਂ ਕੀਤਾ ਜਾ ਸਕਦਾ ਹੈ

31. ਡਰਾਫਟ ਕੌਮੀ ਸਿੱਖਿਆ ਨੀਤੀ-2019 ਲਈ ਕਮੇਟੀ ਦਾ ਚੇਅਰਮੈਨ \_\_\_\_\_ ਹੈ।

- (A) ਡਾ. ਕੇ. ਕਸਤੂਰੀਰੰਗਨ (B) ਸ਼੍ਰੀ ਪ੍ਰਕਾਸ਼ ਜਾਵਦੇਕਰ  
(C) ਪ੍ਰੋ. ਮੰਜੁਲ ਭਾਰਗਵ (D) ਪ੍ਰੋ. ਐੱਮ. ਕੇ. ਸ੍ਰੀਧਰ

32. ਭਾਰਤ ਵਿੱਚ ਅੰਗਰੇਜ਼ੀ ਸਿੱਖਿਆ ਦਾ ਮੈਗਨਾ ਕਾਰਟਾ \_\_\_\_\_ ਹੈ।

- (A) ਚਾਰਟਰ ਐਕਟ (1813)  
(B) ਮੈਕੂਲਾ ਦਾ ਭਾਰਤ ਵਿੱਚ ਸਿੱਖਿਆ ਲਈ ਸਮਾਂ (1835)  
(C) ਵੁੱਡਜ਼ ਡਿਸਪੈਚ ਆਨ ਐਜੂਕੇਸ਼ਨ (1854)  
(D) ਸਾਰਵੇਂਟ ਕਮਿਸ਼ਨ ਦੀ ਰਿਪੋਰਟ (1944)

33. \_\_\_\_\_ ਉਹ ਡਿਗਰੀ ਹੈ ਜਿਸ ਨਾਲ ਇੱਕ ਟੈਸਟ ਮਾਪਦਾ ਹੈ ਕਿ ਇਸ ਨੂੰ ਮਾਪਣਾ ਚਾਹੀਦਾ ਹੈ।

- (A) ਭਰੋਸੇਯੋਗਤਾ (B) ਵੈਧਤਾ  
(C) ਉਪਯੋਗੀ (D) ਨਿਸਪੱਕਸਤਾ

34. ਸਰੀਰ ਦੇ ਕਿਹੜੇ ਅੰਗ ਵਿੱਚੋਂ ਤਰਲ ਪੈਦਾ ਹੁੰਦਾ ਹੈ ?

- (A) ਜਿਗਰ  
(B) ਪਾਚਕ (Pancreas)  
(C) ਪੇਟ ਬਲੈਡਰ (Gall Bladder)  
(D) ਗੁਰਦੇ

35. ਡੇਸੀਬਲ \_\_\_\_\_ ਨੂੰ ਮਾਪਣ ਲਈ ਟਿਕਾਈ ਹੈ।

- (A) ਰੇਸ਼ਨੀ ਦੀ ਸਪੀਡ  
(B) ਆਵਾਜ਼ ਦੀ ਤੀਬਰਤਾ  
(C) ਗਰਮੀ ਦੀ ਤੀਬਰਤਾ  
(D) ਰੇਡੀਓ ਲਹਿਰ ਦੀ ਆਵ੍ਰਿਤੀ

6. ਜਲੋਚਿਤ ਆਕ੍ਰਿਤਿਕ ਰੂਪ ਸੇ ਪਾਏ ਆਨੇ ਵਾਲਾ ਚੀਲੇਟ (Chelate) ਯੋਗਿਕ ਹੈ ਕਿਸਮੇਂ ਮੁਖ ਘਾਤੁ \_\_\_\_\_ ਹੈ।  
 (A) ਕੋਪਰ (B) ਆਧਰਜ  
 (C) ਮੈਗਨੀਸ਼ਿਅਮ (D) ਕੈਲਸ਼ਿਅਮ
7. ਰਾਸ਼ਟ੍ਰੀਯ ਆਪਾਦਕਾਲ ਘੋਸ਼ਿਤ ਕਰਨੇ ਕਾ ਅਧਿਕਾਰ ਕਿਸੇ ਹੈ ?  
 (A) ਭਾਰਤ ਕੇ ਪ੍ਰਧਾਨਮੰਤ੍ਰੀ (B) ਭਾਰਤ ਕੇ ਰਾਸ਼ਟ੍ਰਪਤਿ  
 (C) ਰਾਜ ਕੇ ਰਾਜਪਾਲ (D) ਸੰਸਦ
8. ਭਾਰਤ ਕੇ ਸੰਵਿਧਾਨ ਮੇਂ ਕਿਤਨੀ ਅਨੁਸੂਚਿਯਾ ਨਿਸ਼ਿਤ ਹੈ ?  
 (A) 12 ਅਨੁਸੂਚਿਯਾ (B) 20 ਅਨੁਸੂਚਿਯਾ  
 (C) 10 ਅਨੁਸੂਚਿਯਾ (D) 25 ਅਨੁਸੂਚਿਯਾ
- ਕੀਟਿਲਿਯ ਕਿਸ ਸ਼ਾਸਕ ਕੇ ਪ੍ਰਧਾਨਮੰਤ੍ਰੀ ਏ ?  
 (A) ਚੰਦ੍ਰਗੁਪਤ (B) ਚੰਦ੍ਰਗੁਪਤ II  
 (C) ਚੰਦ੍ਰਗੁਪਤ ਗੋਧ (D) ਅਸ਼ੋਕਾ
- ਮੋਹਨਯਾਜ ਗਾਂਧੀ ਨੇ ਕੀਨਸੀ ਪੁਸਤਕ ਲਿਖੀ ਥੀ ?  
 (A) India-The National  
 (B) The Story of My Experiments with Truth  
 (C) Two States  
 (D) The Good Earth
- ਕਿਸ ਆੱਪ ਫਾਯਰ' ਆਕ ਆਤਮਕਥਾ ਹੈ :  
 (A) ਰਵੀਪ੍ਰਨਾਥ ਟੈਗੋਰ  
 (B) ਏ.ਪੀ.ਯੇ. ਅਬੁਲ ਕਲਾਮ  
 (C) ਪ੍ਰਯਯ ਮੁਲਜ਼ੀ  
 (D) ਸ਼ੰਕਰਦਯਾਲ ਸ਼ਰਮਾ
- 'ਕਾਦੰਬਰੀ' ਕੇ ਕਵਿ ਕੀਨ ਏ ?  
 (A) ਤੁਲਸੀਦਾਸ (B) ਮਠਮੂਰਿ  
 (C) ਰਵੀਪ੍ਰਨਾਥ ਟੈਗੋਰ (D) ਝੰਬਰਚੰਦ ਵਿਛਾਜਾਗਰ
- 'ਟ੍ਰੇਨ ਟੂ ਪਾਕਿਸਤਾਨ' ਪੁਸਤਕ ਕੇ ਲੇਖਕ ਕੀਨ ਹੈ ?  
 (A) ਅਮ੍ਰਿਤਾ ਪ੍ਰੀਤਮ (B) ਬੁਲਵੰਤ ਸਿੰਘ  
 (C) ਆਰ.ਕੇ. ਨਰਾਯਣ (D) ਮੁਲਕ ਰਾਜ ਆਨੰਦ
- ਕਿਲੀ ਕੀ ਗਲਿਯਾ ਕਿਸਨੇ ਲਿਖੀ ?  
 (A) ਪੂਰਨ ਸਿੰਘ (B) ਨਾਨਕ ਸਿੰਘ  
 (C) ਚਲੀਪ ਕੋਰ ਟਿਵਾਣਾ (D) ਅਮ੍ਰਿਤਾ ਪ੍ਰੀਤਮ
36. ਕਲੋਰੋਫਿਲ ਇੱਕ ਕੁਦਰਤੀ ਤੌਰ ਤੇ ਵਾਪਰ ਰਹੀਆਂ ਚੀਲੇਟ (Chelate) ਮਿਸ਼ਰਣ ਹੈ ਜਿਸ ਵਿੱਚ ਮੁੱਖ ਧਾਤੁ \_\_\_\_\_ ਹੈ।  
 (A) ਕੋਪਰ (B) ਆਇਰਨ  
 (C) ਮੈਗਨੇਸ਼ੀਅਮ (D) ਕੈਲਸ਼ੀਅਮ
37. ਨੈਸ਼ਨਲ ਐਮਰਜੈਂਸੀ ਘੋਸ਼ਿਤ ਕਰਨ ਦਾ ਅਧਿਕਾਰ ਕਿਸਦਾ ਹੈ ?  
 (A) ਭਾਰਤ ਦਾ ਪ੍ਰਧਾਨਮੰਤਰੀ (B) ਭਾਰਤ ਦੇ ਰਾਸ਼ਟਰਪਤੀ  
 (C) ਰਾਜ ਦੇ ਰਾਜਪਾਲ (D) ਸੰਸਦ
38. ਭਾਰਤੀ ਸੰਵਿਧਾਨ ਵਿੱਚ ਕਿੰਨੀਆਂ ਅਨੁਸੂਚੀਆਂ ਨਿਹਿਤ ਹਨ ?  
 (A) 12 ਅਨੁਸੂਚੀਆਂ (B) 20 ਅਨੁਸੂਚੀਆਂ  
 (C) 10 ਅਨੁਸੂਚੀਆਂ (D) 25 ਅਨੁਸੂਚੀਆਂ
39. ਕੋਟਿਲਆ ਕਿਸ ਸ਼ਾਸਕ ਦੇ ਪ੍ਰਧਾਨਮੰਤਰੀ ਸਨ ?  
 (A) ਚੰਦਰਗੁਪਤ (B) ਚੰਦਰਗੁਪਤ II  
 (C) ਚੰਦਰਗੁਪਤ ਮੋਰੀਆ (D) ਅਸ਼ੋਕਾ
40. ਮੋਹਨਦਾਸ ਗਾਂਧੀ ਨੇ ਕਿਹੜੀ ਕਿਤਾਬ ਲਿਖੀ ਸੀ ?  
 (A) India-The National  
 (B) The Story of My Experiments with Truth  
 (C) Two States  
 (D) The Good Earth
41. 'ਵਿੰਗਸ ਆਫ ਫਾਇਰ' ਇੱਕ ਆਤਮਕਥਾ ਹੈ :  
 (A) ਰਬਿੰਦਰਨਾਥ ਟੈਗੋਰ  
 (B) ਏ. ਪੀ. ਜੇ. ਅਬਦੁਲ ਕਲਾਮ  
 (C) ਪ੍ਰਣਯ ਮੁਖਰਜੀ  
 (D) ਸ਼ੰਕਰਦਯਾਲ ਸ਼ਰਮਾ
42. ਕਾਦੰਬਰੀ ਦੇ ਕਵੀ ਕੌਣ ਸਨ ?  
 (A) ਤੁਲਸੀਦਾਸ  
 (B) ਭਵਭੂਤੀ  
 (C) ਰਬਿੰਦਰਨਾਥ ਟੈਗੋਰ  
 (D) ਈਸ਼ਵਰਚੰਦਰ ਵਿੰਦਿਆਸਾਗਰ
43. 'ਟ੍ਰੇਨ ਟੂ ਪਾਕਿਸਤਾਨ' ਕਿਤਾਬ ਦਾ ਲੇਖਕ ਕੌਣ ਹੈ ?  
 (A) ਅਮ੍ਰਿਤਾ ਪ੍ਰੀਤਮ (B) ਬੁਲਵੰਤ ਸਿੰਘ  
 (C) ਆਰ. ਕੇ. ਨਰਾਇਣ (D) ਮੁਲਕ ਰਾਜ ਆਨੰਦ
44. 'ਚਿਲੀ ਦੀਆਂ ਗਲੀਆਂ' ਕਿਸ ਨੇ ਲਿਖੀ ?  
 (A) ਪੂਰਨ ਸਿੰਘ (B) ਨਾਨਕ ਸਿੰਘ  
 (C) ਚਲੀਪ ਕੋਰ ਟਿਵਾਣਾ (D) ਅਮ੍ਰਿਤਾ ਪ੍ਰੀਤਮ

45. 'ਪਵਿੱਤਰ ਪਾਪੀ' ਕਿਸਦੀ ਰਚਨਾ ਹੈ ?
- (A) ਡਾ. ਪੂਰਨ ਸਿੰਘ  
(B) ਡਾ. ਮੋਹਨ ਸਿੰਘ  
(C) ਨਾਨਕ ਸਿੰਘ  
(D) ਗੁਰਦੇਵ ਸਿੰਘ ਖ਼ੈਰਲਾਰੀ
46. ਨਿਮਨਲਿਖਿਤ ਮੈਂ ਸੇ ਕਿਸ ਦੇਸ਼ ਨੇ ਅਧਿਕਤਮ ਵਾਰ ਫੁਟਬਾਲ ਵਰਲਡ ਕਪ ਜੀਤਾ ?
- (A) ਜਰਮਨੀ (B) ਇਟਲੀ  
(C) ਡਰੋਈਨਾ (D) ਭਾਰਤ
47. ਨਿਮਨਲਿਖਿਤ ਮੈਂ ਸੇ ਕਿਸਨੇ 2016 ਰਿਓ ਓਲੰਪਿਕ ਮੈਂ ਭਾਰਤ ਕੋ ਲਿਓ ਕੁਪੀ (ਫੀਸਟਾਇਲ) ਮੈਂ ਕਾਂਸ਼ ਪਦਕ ਜੀਤਾ ਥਾ ?
- (A) ਸੰਦੀਪ ਤੋਮਰ (B) ਸਾਕਸ਼ੀ ਮਲਿਕ  
(C) ਬਿਨੇਸ਼ ਫੋਗਟ (D) ਨਰਸਿੰਘ ਯਾਦਵ
48. ਏਕ ਵਿਧੀਯ ਅੰਤਰਰਾਸ਼ਟਰੀ ਕ੍ਰਿਕੇਟ ਮੈਂ ਡੈਟ੍ਰਿਕ ਕ੍ਰਿਕੇਟ ਕੌਨ-ਸੇ ਪਹਲੇ ਭਾਰਤੀ ਕ੍ਰਿਕੇਟਰ ਨੇ ਲਿਯਾ ਥਾ ?
- (A) ਰਵਿ ਸ਼ਾਸਤਰੀ (B) ਕਪਿਲ ਦੇਵ  
(C) ਚੇਤਨ ਸ਼ਰਮਾ (D) ਮਨਿੰਦਰ ਸਿੰਘ
49. ਗਰਬਾ \_\_\_\_\_ ਕਾ ਲੋਕਪ੍ਰਿਯ ਨ੍ਰਯ ਸਵਰੂਪ ਹੈ ।
- (A) ਭਰਿਆਯਾ (B) ਹਿਮਾਚਲ ਪ੍ਰਦੇਸ਼  
(C) ਮਹਾਰਾਸ਼ਟ੍ਰ (D) ਗੁਜਰਾਤ
50. ਰਾਸ਼ਟਰੀਯ ਨਾਟ੍ਯ ਵਿਭਾਗਲਯ \_\_\_\_\_ ਮੈਂ ਸਥਿਰ ਹੈ ।
- (A) ਮੁੰਬਈ (B) ਨਵੀਂ ਦਿੱਲੀ  
(C) ਕੋਲਕਾਤਾ (D) ਚੇਨਈ
51. ਤਸਲਾਦ ਬਿਮਿਲਲਾਭ ਸ਼ਾਨ ਕੌ \_\_\_\_\_ ਕੌ ਲੋਕਪ੍ਰਿਯ ਬਨਾਨੇ ਕਾ ਐਯ ਦਿਯਾ ਗਯਾ ।
- (A) ਬਠਨਾਈ (B) ਸਿਤਾਰ  
(C) ਸਰੋਦ (D) ਬਾਂਸੁਰੀ
52. ਭਾਰਤ ਸਰਕਾਰ ਨੇ ਭਾਰਤੀਯ ਸਮਾਜ ਪੰਝੀਕਰਨ ਅਧਿਨਿਯਮ, 1860 ਕੋ ਤਹਿਤ ਭੌਸ਼ਿਕ ਪਰੀਖਯ ਕੋ ਲਿਓ ਕਿਸ ਏਜੰਸੀ ਕੋ ਨਿਮਾਯ ਕੌ ਸੰਝੂਰੀ ਡੀ ਹੈ ?
- (A) ਰਾਸ਼ਟਰੀ ਭੌਸ਼ਿਕ ਏਜੰਸੀ  
(B) ਰਾਸ਼ਟਰੀ ਪਰੀਖਯ ਏਜੰਸੀ  
(C) ਰਾਸ਼ਟਰੀ ਸ਼ਿਕਾ ਪਰੀਖਯ ਏਜੰਸੀ  
(D) ਰਾਸ਼ਟਰੀ ਤਾਬਥਰ ਸ਼ਿਕਾ ਪਰੀਖਯ ਏਜੰਸੀ
45. 'ਪਵਿੱਤਰ ਪਾਪੀ' ਕਿਸ ਦੀ ਰਚਨਾ ਹੈ ?
- (A) ਡਾ. ਪੂਰਨ ਸਿੰਘ  
(B) ਡਾ. ਮੋਹਨ ਸਿੰਘ  
(C) ਨਾਨਕ ਸਿੰਘ  
(D) ਗੁਰਦੇਵ ਸਿੰਘ ਖ਼ੈਰਲਾਰੀ
46. ਨਿਮਨਲਿਖਿਤ ਵਿੱਚੋਂ ਕਿਸ ਦੇਸ਼ ਨੇ ਬਹੁਤ ਵਾਰ ਵਿਸ਼ਵ ਫੁੱਟਬਾਲ ਕੱਪ ਜਿੱਤਿਆ ?
- (A) ਜਰਮਨੀ (B) ਇਟਲੀ  
(C) ਅਰਜਨਟੀਨਾ (D) ਬ੍ਰਾਜ਼ੀਲ
47. ਨਿਮਨਲਿਖਿਤ ਵਿੱਚੋਂ ਕਿਸ ਨੇ 2016 ਰੀਓ ਓਲੰਪਿਕ ਵਿੱਚ ਭਾਰਤ ਲਈ ਕੁਪੀ (ਫੀਸਟਾਇਲ) ਵਿੱਚ ਕਾਂਸ਼ੀ ਦਾ ਪਦਕ ਜਿੱਤਿਆ ?
- (A) ਸੰਦੀਪ ਤੋਮਰ (B) ਸਾਕਸ਼ੀ ਮਲਿਕ  
(C) ਬਿਨੇਸ਼ ਫੋਗਟ (D) ਨਰਸਿੰਘ ਯਾਦਵ
48. ਪਹਿਲਾ ਭਾਰਤੀ ਕ੍ਰਿਕਟਰ ਜਿਸ ਨੇ ਇੱਕ ਰੋਜ਼ਾ ਅੰਤਰਰਾਸ਼ਟਰੀ ਕ੍ਰਿਕਟ ਵਿੱਚ ਹੈਟ੍ਰਿਕ ਕ੍ਰਿਕਟ ਪ੍ਰਾਪਤ ਕੀਤੀ ਸੀ ?
- (A) ਰਵੀ ਸ਼ਾਸਤਰੀ (B) ਕਪਿਲ ਦੇਵ  
(C) ਚੇਤਨ ਸ਼ਰਮਾ (D) ਮਨਿੰਦਰ ਸਿੰਘ
49. ਗਰਬਾ \_\_\_\_\_ ਦਾ ਪ੍ਰਸਿੱਧ ਡਾਂਸ ਰੂਪ ਹੈ।
- (A) ਹਰਿਆਣਾ (B) ਹਿਮਾਚਲ ਪ੍ਰਦੇਸ਼  
(C) ਮਹਾਰਾਸ਼ਟਰ (D) ਗੁਜਰਾਤ
50. ਭਰਮੇ ਦਾ ਰਾਸ਼ਟਰੀ ਸਕੂਲ \_\_\_\_\_ ਵਿੱਚ ਸਥਿਤ ਹੈ।
- (A) ਮੁੰਬਈ (B) ਨਵੀਂ ਦਿੱਲੀ  
(C) ਕੋਲਕਾਤਾ (D) ਚੰਨਈ
51. ਉਸਤਾਦ ਬਿਸਮਿਲਾ ਖਾਨ ਨੂੰ \_\_\_\_\_ ਨੂੰ ਪ੍ਰਚਲਿਤ ਕਰਨ ਦਾ ਸਿਹਰਾ ਜਾਂਦਾ ਹੈ।
- (A) ਬਹਿਨਾਈ (B) ਸਿਤਾਰ  
(C) ਸਰੋਦ (D) ਬੰਸਰੀ
52. ਭਾਰਤ ਸਰਕਾਰ ਨੇ ਇੰਡੀਅਨ ਸੁਸਾਇਟੀਜ਼ ਰਜਿਸਟ੍ਰੇਸ਼ਨ ਐਕਟ 1860 ਦੇ ਤਹਿਤ ਕਿਸ ਏਜੰਸੀ ਦੇ ਨਿਰਮਾਣ ਨੂੰ ਸਿੱਖਿਆ ਪ੍ਰੀਖ ਦੀ ਪ੍ਰਵਾਨਗੀ ਦਿੱਤੀ ਹੈ ?
- (A) ਰਾਸ਼ਟਰੀ ਸਿੱਖਿਆ ਏਜੰਸੀ  
(B) ਰਾਸ਼ਟਰੀ ਜਾਂਚ ਏਜੰਸੀ  
(C) ਰਾਸ਼ਟਰੀ ਸਿੱਖਿਆ ਜਾਂਚ ਏਜੰਸੀ  
(D) ਰਾਸ਼ਟਰੀ ਉੱਚਤਰ ਸਿੱਖਿਆ ਜਾਂਚ ਏਜੰਸੀ

53. ਜ਼ਾਕਿਰ ਹੁਸੈਨ ਸਮਿਤਿ ਦੇ ਸੰਬੰਧ ਮੇਂ ਆਧੁਨਿਕ ਸਿੱਖਿਆ-ਸਮਿਲਿਤ ਕੀ ਯੋਜਨਾ ਨਿਮਨਲਿਖਿਤ ਮੇਂ ਸੇ ਕੀਨ-ਸੀ ਹੈ ?
- (A) ਰਾਸ਼ਟ੍ਰੀਯ ਸਿੱਖਿਆ ਆਯੋਗ (1964-1966)  
 (B) ਸਿੱਖਿਆ ਪਰ ਰਾਸ਼ਟ੍ਰੀਯ ਨੀਤਿ (1986)  
 (C) ਬੁਨਿਆਦੀ ਸਿੱਖਿਆ ਕੀ ਤਰ੍ਹਾਂ ਯੋਜਨਾ (1937)  
 (D) ਭਾਰਤੀਯ ਸਿੱਖਿਆ ਆਯੋਗ (1882)
54. ਰਾਸ਼ਟ੍ਰੀਯ ਉਪਲਬਧਿ ਸਰਵੇਖਣ (2017) \_\_\_\_\_ ਦੇ ਢਾਂਚੇ ਪਰ ਆਯੋਜਿਤ ਕਿਆ ਸਯਾ ਯਾ।
- (A) ਕਲਾਸਾਂ I-V  
 (B) ਕਲਾਸਾਂ VI-VIII  
 (C) ਕਲਾਸਾਂ II, VI ਐਂਡ VIII  
 (D) ਕਲਾਸਾਂ III, V ਐਂਡ VIII
55. ਭਾਰਤ ਸਰਕਾਰ ਦੇ ਮਾਨਯ ਸੰਸਾਧਨ ਵਿਕਾਸ ਦੇ ਯੂਨਿਯਨ ਸਤ੍ਰੀ ਕੀਨ ਹੈ ?
- (A) ਡਾ. ਸੁਬ੍ਰਹਮਯਮ ਯਯਯਕਰ  
 (B) ਖ਼ੀਸਤੀ ਸ੍ਰੁਤਿ ਯੂਬਿਨ ਈਰਾਨੀ  
 (C) ਡਾ. ਰਮੇਸ਼ ਯੋਲਕਰਿਯਾਲ ਨਿਯੰਕ  
 (D) ਖ਼ੀ ਪ੍ਰਕਾਸ਼ ਯਾਯਯੇਕਰ
56. ਆਰਮੀ ਸਟਾਫ ਦੇ ਕਰੰਸਾਨ ਭਾਰਤੀ ਪ੍ਰਧਾਨ ਕੌਣ ਹਨ ?
- (A) ਜਨਰਲ ਢਲਬੀਰ ਸਿੰਘ  
 (B) ਜਨਰਲ ਬਿਪਿਨ ਰਾਯਤ  
 (C) ਜਨਰਲ ਬਿਕਰਮ ਸਿੰਘ  
 (D) ਜਨਰਲ ਵਿਜੇ ਕੁਮਾਰ ਸਿੰਘ
57. ਆਈ. ਸੀ. ਸੀ. (I.C.C.) ਵਰਲਡ ਕਪ-2019 ਮੇਂ ਅਫਗਾਨਿਸਤਾਨ ਟੀਮ ਕਾ ਕਪਤਾਨ ਕੀਨ ਹੈ ?
- (A) ਗੁਲਬਦੀਨ ਨੇਬ  
 (B) ਸ਼ੋਹਮਮਦ ਸ਼ਾਹਜਾਦ  
 (C) ਅਸਗਰ ਅਫਗਾਨ  
 (D) ਰਸ਼ੀਦ ਖਾਨ
58. ਨਿਮਨਲਿਖਿਤ ਵਿੱਚੋਂ ਕਿਹੜੀ ਪਹਲ ਭਾਰਤ ਦੇ ਆਯਕਰ ਵਿਭਾਗ ਦਾ ਕਰ ਦਾਤਾਵਾਂ ਦੇ ਨਾਲ ਸਿਧੇ ਸੰਵਾਦ ਕਰਨ ਲਈ ਇੱਕ ਕੋਸ਼ਿਸ਼ ਹੈ ?
- (A) ਸਵਅਮ  
 (B) ਸਵਅਮ ਪ੍ਰਭਾ  
 (C) ਆਯਕਰ ਸੇਤੁ  
 (D) ਸੁਕਮ ਵਹਾਰ
59. ਬਿਖਮ ਦਾ ਪਤਾ ਲਗਾਓ :
- (A) ਇੰਟਰਨੈੱਟ  
 (B) ਲਿੰਕਸ  
 (C) ਯੂਨੀਕਸ  
 (D) ਵਿੰਡੋਜ਼
53. ਜ਼ਾਕਿਰ ਹੁਸੈਨ ਕਮੇਟੀ ਨਾਲ ਸਬੰਧਤ ਆਧੁਨਿਕ ਸਿੱਖਿਆ ਸਮਿਲਤ ਦੀ ਯੋਜਨਾ ਨਿਮਨਲਿਖਿਤ ਵਿੱਚੋਂ ਕਿਹੜੀ ਹੈ ?
- (A) ਰਾਸ਼ਟਰੀ ਸਿੱਖਿਆ ਆਯੋਗ (1964-1966)  
 (B) ਸਿੱਖਿਆ 'ਤੇ ਰਾਸ਼ਟਰੀ ਨੀਤੀ (1986)  
 (C) ਬੁਨਿਆਦੀ ਸਿੱਖਿਆ ਦੀ ਵਰਧਾ ਯੋਜਨਾ (1937)  
 (D) ਭਾਰਤੀ ਸਿੱਖਿਆ ਆਯੋਗ (1882)
54. ਰਾਸ਼ਟਰੀ ਉਪਲਬਧੀ ਸਰਵੇਖਣ (2017) \_\_\_\_\_ ਦੇ ਵਿਦਿਆਰਥੀਆਂ 'ਤੇ ਆਯੋਜਿਤ ਕੀਤਾ ਗਿਆ ਸੀ।
- (A) ਕਲਾਸਾਂ I-V  
 (B) ਕਲਾਸਾਂ VI-VIII  
 (C) ਕਲਾਸਾਂ II, VI ਅਤੇ VIII  
 (D) ਕਲਾਸਾਂ III, V ਅਤੇ VIII
55. ਭਾਰਤ ਸਰਕਾਰ ਦੇ ਮਨੁੱਖੀ ਸੰਸਾਧਨ ਵਿਕਾਸ ਦੇ ਯੂਨੀਅਨ ਮੈਂਬਰੀ ਕੌਣ ਹਨ ?
- (A) ਡਾ. ਸੁਬ੍ਰਾਹਮਨਯਮ ਜੈਸ਼ੰਕਰ  
 (B) ਸ਼੍ਰੀਮਤੀ ਸਮ੍ਰਿਤੀ ਚੁਬਿਨ ਟੀਰਾਨੀ  
 (C) ਡਾ. ਰਮੇਸ਼ ਪੇਖਰੀਅਲ 'ਨਿਸ਼ੰਕ'  
 (D) ਸ਼੍ਰੀ ਪ੍ਰਕਾਸ਼ ਜਾਵਦੇਕਰ
56. ਆਰਮੀ ਸਟਾਫ ਦੇ ਮੌਜੂਦਾ ਭਾਰਤੀ ਪ੍ਰਧਾਨ ਕੌਣ ਹਨ ?
- (A) ਜਨਰਲ ਢਲਬੀਰ ਸਿੰਘ  
 (B) ਜਨਰਲ ਬਿਪਿਨ ਰਾਯਤ  
 (C) ਜਨਰਲ ਬਿਕਰਮ ਸਿੰਘ  
 (D) ਜਨਰਲ ਵਿਜੈ ਕੁਮਾਰ ਸਿੰਘ
57. ਆਈ. ਸੀ. ਸੀ. (I.C.C.) ਵਿਸ਼ਵ ਕੱਪ-2019 ਵਿੱਚ ਅਫਗਾਨਿਸਤਾਨ ਟੀਮ ਦਾ ਕਪਤਾਨ ਕੌਣ ਹੈ ?
- (A) ਗੁਲਬਦੀਨ ਨੇਬ  
 (B) ਮੁਹੰਮਦ ਸ਼ਹਿਜ਼ਾਦ  
 (C) ਅਸਗਰ ਅਫਗਾਨ  
 (D) ਰਸ਼ੀਦ ਖਾਨ
58. ਨਿਮਨਲਿਖਿਤ ਵਿੱਚੋਂ ਕਿਹੜੀ ਪਹਲ ਭਾਰਤ ਦੇ ਆਯਕਰ ਵਿਭਾਗ ਦਾ ਕਰ ਦਾਤਾਵਾਂ ਦੇ ਨਾਲ ਸਿਧੇ ਸੰਵਾਦ ਕਰਨ ਲਈ ਇੱਕ ਕੋਸ਼ਿਸ਼ ਹੈ ?
- (A) ਸਵਅਮ  
 (B) ਸਵਅਮ ਪ੍ਰਭਾ  
 (C) ਆਯਕਰ ਸੇਤੁ  
 (D) ਸੁਕਮ ਵਹਾਰ
59. ਬਿਖਮ ਦਾ ਪਤਾ ਲਗਾਓ :
- (A) ਇੰਟਰਨੈੱਟ  
 (B) ਲਿੰਕਸ  
 (C) ਯੂਨੀਕਸ  
 (D) ਵਿੰਡੋਜ਼

60. निम्नलिखित में से किस पार्टी ने पाकिस्तान में 15 वीं राष्ट्रीय सभा का गठन किया ?
- (A) National People Party  
(B) Pakistan Muslim League-Nawaz  
(C) Pakistan Tehreek-e-Insaf  
(D) Pakistan Peoples Party
61. शिक्षण अधिक प्रभावी होगा यदि शिक्षक :
- (A) अपने इरादों को उद्देश्यपूर्ण बनाता है  
(B) विषय का मास्टर है  
(C) विभिन्न निर्देशात्मक सहायता का उपयोग करता है  
(D) दृष्टान्त में अपने उद्देश्यों की घोषणा करता है
62. एक शिक्षक जो अपने छात्रों का ध्यान आकर्षित करने में सक्षम नहीं है :
- (A) अपनी शिक्षण पद्धति का मूल्यांकन करे और उसे सुधारें  
(B) पद से इस्तीफा दें  
(C) अपने छात्रों में दोष खोजें  
(D) तानाशाही करना शुरू करें
63. दूरस्थ शिक्षा का अर्थ है :
- (A) दूर उपलब्ध कराई गई शिक्षा  
(B) शिक्षा उन लोगों के लिए प्रदान की जाती है जो स्कूल नहीं जा सकते  
(C) शिक्षार्थी हेतु घर तक शिक्षा  
(D) लोगों की सेवा के लिए शिक्षा
64. स्कूल स्तरीय ETV कार्यक्रम इनके द्वारा प्रस्तुत किए जाते हैं :
- (A) CIET (B) EICT  
(C) CITE (D) ETCE
65. दूरदर्शन का शैक्षिक टेलीविज़न चैनल निम्नलिखित में से कौन-सा है ?
- (A) मुल्कुल (B) ज्ञान भारती  
(C) ज्ञान दर्शन (D) विद्या
66. निम्नलिखित में से कौन-सा एक ऑडियो-विज़ुअल का साधन है ?
- (A) रेडियो (B) टेप-रिकॉर्डर  
(C) टेलीविज़न (D) प्रोजेक्टर
60. निम्नलिखित विंचों किस पार्टी ने पाकिस्तान विंच 15 नैसनल असैम्बली बटाटी ?
- (A) National People Party  
(B) Pakistan Muslim League-Nawaz  
(C) Pakistan Tehreek-e-Insaf  
(D) Pakistan Peoples Party
61. टीचिंग अधिक पुरावाशाली हेवेगी अगर अधिआपक :
- (A) उंसदा टिरादा उदेसपुवन वाला है  
(B) विसे दा मालक है  
(C) वंचे-वंचे सहाटिक निदेसां ची वरतों करदा है  
(D) सुदुआत विंच उंसदे उदेसां ची बंसटा करदा है
62. ईक अधिआपक निहडा आपडे विदिआरबीआं दा धिआ धिचद से जेक नही है :
- (A) आपटी सिंधिआ विपी दा मुलांकक करे अडे उंसनुं सुप  
(B) पद तें असतीफा देवे  
(C) आपडे विदिआरबीआं विंच नुकस लेंगे  
(D) तानाशाही करना सुदु करे
63. दूर ची सिंधिआ दा अरथ है :
- (A) सिंधिआ दुरी तें पुरान कीती गदी  
(B) उंसुं लेंकां लदी सिंधिआ तिंतों नचदी है निहडे सकूल नही सकदे  
(C) सिंधिआरबीं दे दरवाजे दे पडाअ तें सिंधिआ  
(D) लेंकां ची सेवा लदी सिंधिआ
64. सकूल पंघर दे ETV पुरेगाम इस दुरआडा हाजर कीते न हन ?
- (A) CIET (B) EICT  
(C) CITE (D) ETCE
65. निम्नलिखित विंचों किहडा दुरदरशन दा सिंधिआ टेलीवि चैनल है ?
- (A) मुल्कुल (B) गिआन डारती  
(C) गिआन दरशन (D) विदिआ
66. निम्नलिखित विंचों किहडा आडीऑ-विचुअल दा साधन है ?
- (A) रेडीऑ (B) टेप-रिकार्डर  
(C) टेलीविजन (D) पुंसैक्टर

7. भारतीय शिक्षा आयोग, 1966 का महत्व है :
- (A) मूल्य अनुस्थापन  
(B) धार्मिक अनुस्थापन  
(C) लोकतांत्रिक मूल्य का उत्थान  
(D) उपरोक्त में से कोई नहीं
8. भारत एक है।
- (A) प्रभुता सम्पन्न लोकतंत्रात्मक समाजवादी गणराज्य  
(B) प्रभुता सम्पन्न समाजवादी धर्मनिरपेक्ष गणराज्य  
(C) प्रभुता सम्पन्न लोकतंत्रात्मक गणराज्य  
(D) प्रभुता सम्पन्न समाजवादी धर्मनिरपेक्ष लोकतंत्रात्मक गणराज्य
9. 'भारत के संविधान' के रूप में शिक्षा में प्रविष्टि का अधिकार होता है :
- (A) संघ की सूची का (B) राज्य सूची का  
(C) केंद्र सूची का (D) इनमें से कोई नहीं
10. निःशुल्क और अनिवार्य प्राथमिक शिक्षा पहली बार किसने शुरू की ?
- (A) गोपाल कृष्ण गोखले  
(B) एम.के. गांधी  
(C) एन.पी.ई. (N.P.E.) 1968  
(D) प्राथमिक शिक्षा आयोग
11. अंग्रेजों के समय में खोला जाने वाला पहला विश्वविद्यालय कौन-सा था ?
- (A) बॉम्बे विश्वविद्यालय (B) अलीगढ़ विश्वविद्यालय  
(C) कलकत्ता विश्वविद्यालय (D) हैदराबाद विश्वविद्यालय
12. पंजाब विश्वविद्यालय को चंडीगढ़ में स्थानांतरित कर दिया गया था :
- (A) 1942 (B) 1950  
(C) 1956 (D) 1962
13. किसने कहा, "एक लैम्प कभी भी दूसरे लैम्प को जला नहीं सकता है जब तक कि उसकी लौ जलती नहीं है" ?
- (A) एम.के. गांधी (B) रवीन्द्र नाथ टैगोर  
(C) रूसो (D) प्लेटो
67. भारतीय सिंधिया आयोग, 1966 का महत्व है :
- (A) मूल अनुस्थापन  
(B) धार्मिक अनुस्थापन  
(C) लोकतंत्रात्मक मूल्य का उत्थान  
(D) उपरोक्त में से कोई नहीं
68. भारत एक \_\_\_\_\_ है।
- (A) प्रभुता सम्पन्न, लोकतंत्रात्मक समाजवादी गणराज्य  
(B) प्रभुता सम्पन्न, समाजवादी धर्मनिरपेक्ष गणराज्य  
(C) प्रभुता सम्पन्न लोकतंत्रात्मक गणराज्य  
(D) प्रभुता सम्पन्न समाजवादी धर्मनिरपेक्ष लोकतंत्रात्मक गणराज्य
69. 'भारत के संविधान' के रूप में शिक्षा में प्रविष्टि का अधिकार होता है :
- (A) संघ की सूची का (B) राज्य सूची का  
(C) केंद्र सूची का (D) इनमें से कोई नहीं
70. पहली बार मुद्रा अਤੇ लाभकारी प्राथमिक शिक्षा किसने शुरू की ?
- (A) गोपाल कृष्ण गोखले  
(B) एम.के. गांधी  
(C) एन.पी.ई. (N.P.E.) 1968  
(D) प्राथमिक शिक्षा आयोग
71. शिक्षा के सभे किहरी पहिली युनीवर्सिटी खेली जाटी सी ?
- (A) बंबई युनीवर्सिटी  
(B) अलीगढ़ युनीवर्सिटी  
(C) कलकत्ता युनीवर्सिटी  
(D) हैदराबाद युनीवर्सिटी
72. पंजाब युनीवर्सिटी चंडीगढ़ में स्थानांतरित कर दिती गਈ सी :
- (A) 1942 (B) 1950  
(C) 1956 (D) 1962
73. किसने कहा, "एक दीया कहे वी दूसरे दीये के ली जला नहीं सकदा, जद तक उसदी लाट जलदी नहीं है" ?
- (A) एम.के. गांधी (B) रवीन्द्र नाथ टैगोर  
(C) रूसो (D) प्लेटो

74. एक रचनात्मक शिक्षक यह कर सकता है :
- (A) कविताओं और कहानियों का संवाद  
(B) चित्र की रचना  
(C) कहानियों का वर्णन  
(D) छात्रों की सोचने की क्षमता को विकसित
75. यदि कक्षा में कुछ छात्र नशे का सेवन करते पाए जाते हैं, तो शिक्षक को करना चाहिए :
- (A) पुलिस को सूचित  
(B) हेडमास्टर को सूचित  
(C) उन्हें ठीक से सलाह  
(D) उन्हें दंडित
76. शिक्षक के सम्मुख पूर्ण रूप से स्कूल की समस्या को हल करने के लिए कौन-सी विधि उपयुक्त है ?
- (A) कार्य शोध (B) सर्वेक्षण विधि  
(C) ऐतिहासिक विधि (D) वर्णनात्मक विधि
77. अपनी कक्षा में गैर-सामाजिक बच्चों की पहचान करने के लिए आप एक शिक्षक के रूप में किसका उपयोग करेंगे ?
- (A) योयला परीक्षण  
(B) सामाजिक-दूरात्मक परीक्षण  
(C) पी. ज्यू. परीक्षण  
(D) उपलब्धि परीक्षण
78. कक्षा में पढ़ते समय भिन्न-भिन्न वर्गों के बच्चे बैठे हों, तो अध्यापक को किस विधि का अनुकरण करना चाहिए ?
- (A) लेक्चर विधि  
(B) प्रदर्शन विधि  
(C) परिप्रेक्ष्य विधि  
(D) लेक्चर सह प्रदर्शन विधि
79. छात्रों के साथ शिक्षक का संबंध होना चाहिए :
- (A) औपचारिक (B) अनौपचारिक  
(C) स्नेही (D) व्यावसायिक
80. पेशे की सफलता इस पर निर्भर करती है :
- (A) व्यक्तियों को सुझाने की नीति  
(B) लोगों के साथ संबंध बनाए रखना  
(C) कार्य की गुणवत्ता बनाए रखना  
(D) बरिष्ठों के प्रति वफादारी
74. ਇੱਕ ਰਚਨਾਤਮਕ ਅਧਿਆਪਕ ਇਹ ਕਰ ਸਕਦਾ ਹੈ :
- (A) ਕਵਿਤਾਵਾਂ ਅਤੇ ਕਹਾਣੀਆਂ ਦਾ ਸੰਵਾਦ  
(B) ਚਿੱਤਰ ਦੀ ਰਚਨਾ  
(C) ਕਹਾਣੀਆਂ ਦਾ ਵਰਨਣ  
(D) ਵਿਦਿਆਰਥੀਆਂ ਦੀ ਸੋਚਣ ਦੀ ਸਮਰੱਥਾ ਵਿਕਸਿਤ
75. ਜੇ ਕਲਾਸ ਵਿਚ ਕੁਝ ਵਿਦਿਆਰਥੀ ਨਸ਼ੇ ਕਰਦੇ ਪਾਏ ਜਾਂਦੇ ਹਨ ਤਾਂ ਅਧਿਆਪਕ ਨੂੰ ਇਹ ਕਰਨਾ ਚਾਹੀਦਾ ਹੈ :
- (A) ਪੁਲਿਸ ਨੂੰ ਸੂਚਿਤ ਕਰੋ  
(B) ਹੈਡਮਾਸਟਰ ਨੂੰ ਸੂਚਿਤ ਕਰੋ  
(C) ਉਹਨਾਂ ਨੂੰ ਸਹੀ ਢੰਗ ਨਾਲ ਸਲਾਹ ਦਿਓ  
(D) ਉਹਨਾਂ ਨੂੰ ਦੰਡ ਦਿਓ
76. ਅਧਿਆਪਕ ਦੇ ਸਾਹਮਣੇ ਪੂਰਣ ਰੂਪ ਤੋਂ ਸਕੂਲ ਦੀ ਸਮੱਸਿਆ ਦਾ ਹੱਲ ਕਰਨ ਲਈ ਕਿਹੜਾ ਤਰੀਕਾ ਉਪਯੁਕਤ ਹੈ ?
- (A) ਕਾਰਜ ਸ਼ੋਧ (B) ਸਰਵੇਖਣ ਵਿਧੀ  
(C) ਇਤਿਹਾਸਕ ਵਿਧੀ (D) ਵਿਆਖਿਆਯੋਗੀ ਵਿਧੀ
77. ਆਪਣੀ ਕਲਾਸ ਵਿੱਚ ਗੈਰ-ਸਮਾਜਿਕ ਬੱਚਿਆਂ ਦੀ ਪਹਿਚਾਣ ਲਈ, ਤੁਸੀਂ ਇੱਕ ਅਧਿਆਪਕ ਦੇ ਰੂਪ ਵਿੱਚ ਕਿਸਦਾ ਉਪਯੋਗ ਕਰੋਗੇ ?
- (A) ਯੋਗਤਾ ਪਰੀਖਣ  
(B) ਸਮਾਜ-ਦੂਰਾਤਮਕ ਪਰੀਖਣ  
(C) ਪੀ. ਜੀ. ਪਰੀਖਣ  
(D) ਉਪਲੱਬਧੀ ਪਰੀਖਣ
78. ਕਲਾਸ ਵਿੱਚ ਪੜ੍ਹਾਉਣ ਵੇਲੇ ਵੱਖ-ਵੱਖ ਵਰਗਾਂ ਦੇ ਬੱਚੇ ਬੈਠੇ ਹੋਣ, ਅਧਿਆਪਕ ਨੂੰ ਕਿਹੜੀ ਵਿਧੀ ਦੀ ਵਰਤੋਂ ਕਰਨੀ ਚਾਹੀਦੀ ਹੈ ?
- (A) ਲੈਕਚਰ ਵਿਧੀ  
(B) ਪ੍ਰਦਰਸ਼ਨ ਵਿਧੀ  
(C) ਵਿਉਂਤ ਵਿਧੀ  
(D) ਲੈਕਚਰ ਸਹਿ-ਪ੍ਰਦਰਸ਼ਨ ਵਿਧੀ
79. ਵਿਦਿਆਰਥੀਆਂ ਨਾਲ ਅਧਿਆਪਕ ਦਾ ਸਬੰਧ ਹੋਣਾ ਚਾਹੀਦਾ ਹੈ :
- (A) ਰਸਮੀ (B) ਗੈਰ-ਰਸਮੀ  
(C) ਪ੍ਰੇਮੀ (D) ਪੇਸ਼ਾਵਰ
80. ਪੇਸ਼ੇ ਦੀ ਸਫਲਤਾ ਇਸ 'ਤੇ ਨਿਰਭਰ ਕਰਦੀ ਹੈ :
- (A) ਵਿਅਕਤੀਆਂ ਨੂੰ ਖੁਸ਼ ਕਰਨ ਦੀ ਠੀਕੀ  
(B) ਲੋਕਾਂ ਨਾਲ ਸਬੰਧ ਬਣਾਈ ਰੱਖਣਾ  
(C) ਕਾਰਜ ਦੀ ਗੁਣਵੱਤਾ ਨੂੰ ਕਾਇਮ ਰੱਖਣਾ  
(D) ਵੱਡਿਆਂ ਦੇ ਪ੍ਰਤੀ ਵਫ਼ਾਦਾਰੀ

81. आपके विद्यालय के अधिकांश शिक्षक चाहते हैं कि आप कर्मचारी अधिक बनें। आप बहुत ज्यादा आत्मविश्वासी नहीं हैं। इस प्रस्ताव पर आपकी क्या प्रतिक्रिया होगी ?
- (A) उन्हें इसे ठग से कहेंगे कि आप इसे नहीं लेंगे  
 (B) उन्हें बताएंगे कि आप योग्य व्यक्ति नहीं हैं  
 (C) सभी मामलों में उनके सहयोग की चुनौती को स्वीकार करेंगे  
 (D) इसके बदले अन्य किसी का नाम सुझाएंगे
82. निम्नलिखित में से किस विधि से छात्रों का सही मूल्यांकन संभव है ?
- (A) औपचारिक मूल्यांकन  
 (B) सतत मूल्यांकन  
 (C) एक वर्ष में दो बार मूल्यांकन  
 (D) पाठ्यक्रम के अंत में मूल्यांकन
83. आंतरिक निर्धारण अच्छा है क्योंकि :
- (A) छात्र शिक्षक से डरते हैं  
 (B) यह कक्षा की ओर ध्यान देने वाले उद्योगों को प्रबलता देता है  
 (C) केवल शिक्षक ही छात्रों की प्रगति और प्रदर्शन को जानता है  
 (D) यह कुल स्कोर में सुधार करता है
84. सतत और व्यापक मूल्यांकन की विशेषताएं क्या हैं :
- (A) यह श्रेणी के साथ अंक बदलता है  
 (B) यह परीक्षा के डर को कम करने में मदद करता है  
 (C) यह छात्र के हर पहलू का मूल्यांकन करता है  
 (D) उपरोक्त सभी
85. पुस्तकालय छात्र के विकास में मदद करता है :
- (A) पुस्तकों के प्रति प्यार (B) समझ की क्षमता  
 (C) व्यक्तिगत संबंध (D) मैत्रीपूर्ण वायदा
86. शिक्षकों के लिए किताबें जारी की जानी चाहिए :
- (A) एक सप्ताह (B) एक महीना  
 (C) छह महीने (D) एक वर्ष
81. ड्रग्स सकुल के बहुरंगे अधिआपक चाहते हैं कि तुम सटाफ सक्तर बने। तुम बहुत आत्म-विश्वासी नहीं हो। इस प्रस्ताव से ड्रग्स की प्रतिक्रिया होगी ?
- (A) तुम उन्हें ठग से कहेंगे कि तुम इसे नहीं लेंगे  
 (B) तुम उन्हें बताओगे कि तुम योग्य व्यक्ति नहीं हैं  
 (C) तुम सभी मामलों में उनके सहयोग की चुनौती को स्वीकार करेंगे  
 (D) इसके बदले अन्य किसी का नाम सुझाएंगे
82. निम्नलिखित तरीकों में से किस विधि से छात्रों का सही मूल्यांकन संभव है ?
- (A) औपचारिक मूल्यांकन  
 (B) सतत मूल्यांकन  
 (C) एक वर्ष में दो बार मूल्यांकन  
 (D) पाठ्यक्रम के अंत में मूल्यांकन
83. आंतरिक निर्धारण अच्छा है क्योंकि :
- (A) छात्र शिक्षक से डरते हैं  
 (B) यह कक्षा की ओर ध्यान देने वाले उद्योगों को प्रबलता देता है  
 (C) केवल शिक्षक ही छात्रों की प्रगति और प्रदर्शन को जानता है  
 (D) यह कुल स्कोर में सुधार करता है
84. सतत और व्यापक मूल्यांकन की विशेषताएं क्या हैं :
- (A) यह श्रेणी के साथ अंक बदलता है  
 (B) यह परीक्षा के डर को कम करने में मदद करता है  
 (C) यह छात्र के हर पहलू का मूल्यांकन करता है  
 (D) उपरोक्त सभी
85. पुस्तकालय छात्र के विकास में मदद करता है :
- (A) पुस्तकों के प्रति प्यार (B) समझ की क्षमता  
 (C) व्यक्तिगत संबंध (D) मैत्रीपूर्ण वायदा
86. शिक्षकों के लिए किताबें जारी की जानी चाहिए :
- (A) एक सप्ताह (B) एक महीना  
 (C) छह महीने (D) एक वर्ष
81. ड्रग्स सकुल के बहुरंगे अधिआपक चाहते हैं कि तुम सटाफ सक्तर बने। तुम बहुत आत्म-विश्वासी नहीं हो। इस प्रस्ताव से ड्रग्स की प्रतिक्रिया होगी ?
- (A) तुम उन्हें ठग से कहेंगे कि तुम इसे नहीं लेंगे  
 (B) तुम उन्हें बताओगे कि तुम योग्य व्यक्ति नहीं हैं  
 (C) तुम सभी मामलों में उनके सहयोग की चुनौती को स्वीकार करेंगे  
 (D) इसके बदले अन्य किसी का नाम सुझाएंगे
82. निम्नलिखित तरीकों में से किस विधि से छात्रों का सही मूल्यांकन संभव है ?
- (A) औपचारिक मूल्यांकन  
 (B) सतत मूल्यांकन  
 (C) एक वर्ष में दो बार मूल्यांकन  
 (D) पाठ्यक्रम के अंत में मूल्यांकन
83. आंतरिक निर्धारण अच्छा है क्योंकि :
- (A) छात्र शिक्षक से डरते हैं  
 (B) यह कक्षा की ओर ध्यान देने वाले उद्योगों को प्रबलता देता है  
 (C) केवल शिक्षक ही छात्रों की प्रगति और प्रदर्शन को जानता है  
 (D) यह कुल स्कोर में सुधार करता है
84. सतत और व्यापक मूल्यांकन की विशेषताएं क्या हैं :
- (A) यह श्रेणी के साथ अंक बदलता है  
 (B) यह परीक्षा के डर को कम करने में मदद करता है  
 (C) यह छात्र के हर पहलू का मूल्यांकन करता है  
 (D) उपरोक्त सभी
85. पुस्तकालय छात्र के विकास में मदद करता है :
- (A) पुस्तकों के प्रति प्यार (B) समझ की क्षमता  
 (C) व्यक्तिगत संबंध (D) मैत्रीपूर्ण वायदा
86. शिक्षकों के लिए किताबें जारी की जानी चाहिए :
- (A) एक सप्ताह (B) एक महीना  
 (C) छह महीने (D) एक वर्ष



87. ਸੰਦਰਭ ਪੁਸਤਕ ਤੋਂ ਆਪ ਕੀ ਸਮਝਦੇ ਹੋ ?

- (A) ਏਸੀ ਪੁਸਤਕ ਯਾਰੀ ਨਹੀਂ ਕੀ ਜਾ ਸਕਦੀ ਹੈ
- (B) ਏਸੀ ਪੁਸਤਕ ਕੋ ਪੁਸਤਕਾਲਯ ਕੇ ਬਾਹਰ ਨਹੀਂ ਨਿਕਾਲਾ ਜਾ ਸਕਦਾ ਹੈ
- (C) ਏਸੀ ਪੁਸਤਕ ਕੇਵਲ ਪੁਸਤਕਾਲਯ ਮੇਂ ਪੜੀ ਜਾ ਸਕਦੀ ਹੈ
- (D) ਉਪਰੋਕਤ ਸਭੀ

88. NSS ਕਾ ਉਦੇਸ਼ ਹੈ :

- (A) ਛਾਤ੍ਰੋਂ ਕੋ ਪ੍ਰਵੇਸ਼ ਪਾਨੇ ਮੇਂ ਮਦਦ ਕਰਨਾ
- (B) ਖ਼ਰਮ ਕੇ ਸਮਮਾਨ ਕੋ ਵਿਕਸਿਤ ਕਰਨਾ
- (C) ਛਾਤ੍ਰੋਂ ਕੋ ਵਧਸਤ ਕਰਨਾ
- (D) ਸਮਾਜ ਕਾ ਵਿਕਾਸ ਕਰਨਾ

89. ਪਰਿਵਾਰ ਇਸਕਾ ਏਕ ਸਾਧਨ ਹੈ :

- (A) ਅਨਾਧਾਰਿਕ ਸਿੱਖਿਆ ਕਾ (B) ਆਧਾਰਿਕ ਸਿੱਖਿਆ ਕਾ
- (C) ਗੈਰ-ਆਧਾਰਿਕ ਸਿੱਖਿਆ ਕਾ (D) ਦੂਰਸਥ ਸਿੱਖਿਆ ਕਾ

90. ਸਕੂਲ ਸ਼ਬਦ ਕੀ ਉਤਪਤਿ ਕਿਸਸੇ ਹੁੰਦੀ ਹੈ :

- (A) ਗ੍ਰੀਕ (B) ਫ੍ਰੇਂਚ
- (C) ਲੈਟਿਨ (D) ਅੰਗ੍ਰੇਜੀ

87. ਸੰਦਰਭ ਪੁਸਤਕ ਤੋਂ ਕੁਸੀਂ ਕੀ ਸਮਝਦੇ ਹੋ ?

- (A) ਅਜਿਹੀ ਕਿਤਾਬ ਜਾਰੀ ਨਹੀਂ ਕੀਤੀ ਜਾ ਸਕਦੀ
- (B) ਅਜਿਹੀ ਕਿਤਾਬ ਨੂੰ ਲਾਇਬ੍ਰੇਰੀ ਤੋਂ ਬਾਹਰ ਨਹੀਂ ਕਢਿਆ ਜਾ ਸਕਦਾ
- (C) ਅਜਿਹੀ ਕਿਤਾਬ ਸਿਰਫ਼ ਲਾਇਬ੍ਰੇਰੀ ਵਿੱਚ ਪੜ੍ਹੀ ਜਾ ਸਕਦੀ ਹੈ
- (D) ਉਪਰੋਕਤ ਸਾਰੇ

88. ਐਨ. ਐਸ. ਐਸ. (NSS) ਦਾ ਉਦੇਸ਼ ਹੈ :

- (A) ਵਿਦਿਆਰਥੀਆਂ ਨੂੰ ਦਾਖਲਾ ਲੈਣ ਵਿੱਚ ਸਹਾਇਤਾ ਕਰਨਾ
- (B) ਕਿਰਤ ਦੇ ਮਾਣ ਨੂੰ ਵਿਕਸਿਤ ਕਰਨਾ
- (C) ਵਿਦਿਆਰਥੀਆਂ ਨੂੰ ਰੁੱਝੇ ਕਰਨਾ
- (D) ਸਮਾਜ ਦਾ ਵਿਕਾਸ ਕਰਨਾ

89. ਪਰਿਵਾਰ ਇਸਦਾ ਇੱਕ ਸਾਧਨ ਹੈ :

- (A) ਗੈਰ-ਰਸਮੀ ਸਿੱਖਿਆ ਦਾ (B) ਰਸਮੀ ਸਿੱਖਿਆ ਦਾ
- (C) ਗੈਰ-ਰਸਮੀ ਸਿੱਖਿਆ ਦਾ (D) ਦੂਰਸਥ ਸਿੱਖਿਆ ਦਾ

90. ਸਕੂਲ ਸ਼ਬਦ ਦੀ ਉਤਪਤੀ ਕਿਸ ਵਿੱਚ ਹੋਈ ਹੈ ?

- (A) ਫ੍ਰੇਂਚ (ਗਰੀਕ) (B) ਫਰੈਂਚ
- (C) ਲਾਤੀਨੀ (D) ਅੰਗ੍ਰੇਜੀ